

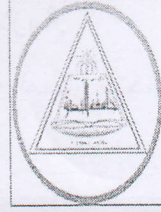
أسئلة الكورس الثاني
للعام الدراسي 2023 - 2024
قسم المحاسبة
للدراسة الصباحية والمسائية

المرحلة الأولى

المادة: محاسبة مالية ٢
المرحلة : الاولى
الوقت :-ساعتان
التاريخ: ٥ / ٢٠٢٤



امتحان الدور الاول
للعام الدراسي
٢٠٢٣/٢٠٢٤



جامعة البصرة
كلية الإدارة والاقتصاد
قسم المحاسبة

اجب عن أربعة أسئلة مما يأتي على ان يكون الأول من ضمنها ولكل سؤال ١٢,٥ درجة.
س١: فيما يلي البيانات التالية لشركة المصطفى التجارية عن سنة ٢٠٢٣

| اسم الحساب | ٢٠٢٣ |
|--------------------------|----------|
| اجمالي المشتريات | ؟؟ |
| اجمالي المبيعات | ؟؟ |
| مردودات المبيعات | ٢٠٠٠٠٠٠ |
| كلفة البضاعة المباعة | ؟؟ |
| البضاعة المعدة للبيع | ٦٠٠٠٠٠٠٠ |
| خصم مسموح به | ١٠٠٠٠٠٠ |
| مجمل الربح او مجمل خسارة | ٢٤٠٠٠٠٠٠ |
| بضاعة اخر المدة | ؟؟ |
| مردودات المشتريات | ؟؟ |
| صافي المشتريات | ؟؟ |
| بضاعة اول المدة | ؟؟ |
| عولة وكلاء الشراء | ١٠٠٠٠٠٠٠ |
| صافي المبيعات | ؟؟ |
| م. نقل المشتريات | ١٠٠٠٠٠٠٠ |

وقد ظهرت المعلومات التالية.

- المشتريات تعادل $\frac{3}{2}$ من البضاعة المعدة للبيع.
 - صافي المبيعات تعادل $\frac{2}{5}$ من مجمل الربح. ٣- كلفة البضاعة المباعة تعادل ١,٢ من اجمالي المشتريات
- علما ان بيانات سنة ٢٠٢٢ كانت كما يلي (مجمل ربح ١٥٠٠٠٠٠٠٠، بضاعة اخر المدة ٢١٠٠٠٠٠٠٠، المشتريات ٧٥٠٠٠٠٠٠٠، المبيعات ٩٠٠٠٠٠٠٠٠)

المطلوب : أ- استخراج البيانات الناقصة ب- اعداد كشف الدخل عن السنة المنتهية في ٢٠٢٣/١٢/٣١.

س٢: يلي الارصدة الخاصة بشركة الضياء عن الفترة المنتهية في ٢٠١٧-١٢-٣١

بضاعة اول المدة ٥٠٠٠٠٠٠٠ ، ، صندوق ١٠٠٠٠٠٠٠٠، مشتريات ١٢٠٠٠٠٠٠٠ ، مردودات المشتريات ١٠٠٠٠٠٠٠٠ ، المبيعات ٣٠٠٠٠٠٠٠٠٠ ، خصم مسموح بها ١٠٠٠٠٠٠٠٠، التامين ٣٦٠٠٠٠٠٠٠٠ دينار، مصاريف ادارية ٦٠٠٠٠٠٠٠٠٠ ، رواتب ٤٠٠٠٠٠٠٠٠٠، مصاريف اخرى ١٠٠٠٠٠٠٠٠٠، ايرادات اخرى ١٥٠٠٠٠٠٠٠٠ ، مكائن ٥٠٠٠٠٠٠٠٠٠ ، مدنيون ٣٠٠٠٠٠٠٠٠٠، داننون ٨٥٠٠٠٠٠٠٠٠، مباني ٦٠٠٠٠٠٠٠٠٠٠، راس المال؟ وعند الجرد

١- قدرت بضاعة اخر المدة بمبلغ ١٠٠٠٠٠٠٠٠٠ دينار بالكلفة و ١٢٠٠٠٠٠٠٠٠ بسعر السوق .

٢- هناك ديون معدومة قدرت ٢٠٠٠٠٠٠٠٠ دينار ، كما قررت الشركة تكوين مخصص ديون مشكوك فيها بنسبة ٤% من رصيد المدين نهاية الفترة.

٣- هناك رواتب الأشهر الثلاث الأخيرة لم تدفع بعد بمقدار ١٠٠٠٠٠٠٠٠٠ دينار.

٤- التامين تغطي لمدة ثلاث سنوات من ٢٠١٧/٤/١

المطلوب: أ- اعداد ميزان المراجعة البسيط. ٢- اجراء قيود التسوية اللازمة.
س٣: اجب عن احد الفرعين. فرع أ- ادناه حساب حسن في سجل شركة المسار التجارية.

ح/ حسن

| المدين | الدائن |
|-----------------------------|-------------------------------------|
| ٦٠٠٠٠٠٠٠ رصيد ١٢/١ | ٣٢٠٠٠٠٠٠ ح/ المصرف ١٢/٧ |
| ٤٠٠٠٠٠٠٠ ح/ المشتريات ١٢/١٢ | ٥٠٠٠٠٠٠٠ ح/ مردودات المشتريات ١٢/١٣ |
| | ٦٣٠٠٠٠٠٠ رصيد مرحل ١٢/٣١ |
| ١٠٠٠٠٠٠٠ | ١٠٠٠٠٠٠٠ |

فاذا علمت.

في ١٢/٧ استلمت الشركة من حسن شيك بمبلغ ٢٣٠٠٠٠٠٠ دينار اودع في صندوق الشركة.

في ١٢/١٢ اشترى حسن بضاعة من الشركة بمبلغ ٢٠٠٠٠٠٠٠ دينار.

١٢/١٣ رد حسن الى الشركة بضاعة تالفة قيمتها ٥٠٠٠٠٠٠٠ دينار.

المطلوب: اثبات القيود اللازمة في دفتر يومية الشركة لتصحيح ما حدث من أخطاء بأقصر الطرق الممكنة وإعادة تصوير حساب حسن.

فرع ب- على فرض صحة شرح القيد: صحح الاخطاء التالية بالطريقة المختصرة

٢٠٠٠ من ح/المدينون

٢٠٠٠ الى ح/ المبيعات

شراء بضاعة نقدا

٣٠٠٠٠ من ح/ اندثار ماكنة

٣٠٠٠٠ الى ح/ مخصص اندثار ماكنة متراكم

تسجيل قيد الاندثار وفق الطريقة المباشرة

٢٥٠٠ من ح/الرواتب

٢٥٠٠ الى ح/ ا.د

تسديد الرواتب نقدا

٥٠٠٠ من ح/ الصندوق

٥٠٠٠ الى ح/ الاثاث

بيع بضاعة نقدا

٧٠٠٠٠٠ من ح/ سيارات

٧٠٠٠٠٠٠ الى ح/ الصندوق

شراء سيارات بمبلغ ٧٠٠٠٠٠٠ نقدا

س٤/: ناقش العبارات التالية بصورة علمية دقيقة.

١- ما المقصود باساس الاستحقاق في المحاسبة وما هي اهم مزاياه مبينا ذلك وفق مثال.

٢- ماذا يقصد بمجمل الربح؟ وماذا يختلف عن صافي الربح.

٣- ما المقصود بالأصل الثابت وكيف تميز بينه وبين الأصل المتداول؟؟.

٤- يمكن تقسيم الأخطاء على أساس علاقتها بالعمليات المحاسبية او على أسس أخرى؟ بين اهم تقسيمات الأخطاء المحاسبية؟؟. ٥- عرف القوائم المالية مع بيان اهم أهدافها.

س٥/ اليك بعض العمليات الخاصة بالموجودات الثابتة من دفاتر شركة الفيحاء عن الفترة المنتهية في ٢٠١٩/١٢/٣١

١- شراء سيارة في ٢٠١٨/١-١ قيمتها ١١٠٠٠٠٠٠٠ دينار بالأجل وقيمت انقاضها ١٠٠٠٠٠٠٠٠ قدر عمرها الإنتاجي ١٠ سنوات وتندثر قسط متناقص بنسبة ٥%.

٢- تم استبدال احدى المكائن باخرى جديدة قيمتها السوقية ٢٣٠٠٠٠٠٠٠ دينار وقد قدر قيمة الماكنة القديمة بمبلغ ١٥٠٠٠٠٠٠٠٠ دينار وبلغت خسائر الاستبدال ١٠٠٠٠٠٠٠٠٠ دينار علما ان الماكنة تم شرائها بمبلغ ١٦٠٠٠٠٠٠٠٠٠ دينار بتاريخ ٢٠١٨/٧/١ ودفع الفرق نقدا

٣- تم بيع سيارة كلفتها ٢٥٠٠٠٠٠٠٠٠ تندثر قسط ثابت ١٠% بعد مرور ٦ سنوات وربع بمبلغ ٩٠٠٠٠٠٠٠٠٠٠ دينار نقدا.

٤- ظهر رصيد ح/ المكائن في دفاتر الشركة بتاريخ ٢٠١٩/ ١/١ مبلغ ٧٠٠٠٠٠٠٠٠٠٠ دينار وبتاريخ ٢٠١٩/٤/١ من نفس السنة قررت الشركة استبدال الماكنة القديمة بمبلغ باخرى جديدة اكثر تطور قيمتها السوقية ١٠٠٠٠٠٠٠٠٠٠٠ علما ان البائع قد قام بتقدير الماكنة القديمة بمبلغ ٦٨٠٠٠٠٠٠٠٠٠٠ دينار ودفع الفرق نقدا وتم شراء الماكنة القديمة بتاريخ ٢٠١٦/٩/١ تندثر بطريقة القسط الثابت بنسبة ١٠%.

٥- تم بيع اثاث كلفته ٢٤٠٠٠٠٠٠٠٠٠ بربح ٢٠% من سعر البيع نقدا.

المطلوب: اثبات قيود اليومية اللازمة وبيان احتساب اقساط الاندثار وتسجيله وفق الطريقة الغير مباشرة نهاية السنة.

مع التمنيات بالتوفيق

رئيس القسم

أ.م.د. الهام جعفر الشاوي

مدرسي المادة

أ.د. سهيل عبدالله التميمي

أ.م.د. الهام جعفر الشاوي


عميد الكلية

أ.د. عبد الحسين توفيق شبلي

الأول الصباحي والمسائي

التاريخ: 2024/ 5/ 13

الوقت: ساعتين



أسئلة الامتحان النهائي
الفصل الثاني للعام الدراسي
2024/2023

الحاسبات الكورس الثاني



جامعة البصرة
كلية الإدارة والاقتصاد
قسم المحاسبة

ملاحظة : الإجابة عن أربعة أسئلة فقط لكل سؤال 12.5 درجة

س1/ أجب عن النقاط التالية بدقة ووضوح:

- 1-ماذا يقصد بعوامل التشغيل المكونة للصيغة في Excel ؟
- 2-ماذا نقصد بالتنسيق الرقمي للخلايا في Excel ؟
- 3-ماذا تعني التعبئة التلقائية للبيانات في خلايا Excel ؟
- 4-ماذا نقصد بالتنسيق الشرطي للبيانات في خلايا Excel ؟
- 5- ماذا نقصد بتصفية البيانات باستخدام التصفية التلقائية ؟

س 2// اجب بكلمة صح او خطأ عن العبارات التالية:

- 1- قد لا تحتوي الصيغة على كافة المكونات وقد تقتصر على مكون واحد فقط من الأجزاء مثل الدوال او مراجع الخلايا.
- 2- يستخدم عامل تشغيل تسلسل النص (&) لضم سلسلة نصية واحدة لإنشاء نصين متجاورين.
- 3- واحدة من استخدامات Excel إدارة بيانات الفواتير والقوائم الحسابية من خلال انشاء النماذج الخاصة
- 4- أن العدد الافتراضي لأوراق العمل في مصنف Excel غير محدد.
- 5- تعرف عوامل التشغيل بأنها الرموز المستخدمة لتحديد نوع العملية الحسابية في الصيغة.

س3/ أملأ الفراغات الآتية بما يناسبها:

- 1- تتكون الخلية A5 من تقاطع
- 2- تتكون ورقة العمل في Excel من صف
- 3- لتحريك الشاشة للأعلى في نافذة EXCEL نضغط على.....
- 4- يقدم برنامج EXCEL نوعين من الرسم البياني هما
- 5- لإنشاء رسم بياني باستخدام المعالج يتم ذلك من خلال قائمة واختيار

س4/أختر الإجابة الصحيحة لكل مما يأتي:


- 1- لحساب المجموع في برنامج EXCEL نستخدم الدالة (MIN – SUM – MAX)
- 2- لحساب المتوسط نستخدم الدالة (MIN – AVERAGE – MAX)
- 3- لحساب أكبر قيمة نستخدم الدالة (MIN – MAX-SUM)
- 4- لحساب أقل قيمة نستخدم الدالة (SUM –MAX-MIN)
- 5- لحساب أقل قيمة نستخدم الدالة (MAX-COUNTA – SUM)


س5/ أعطي الوظيفة المناسبة لكل دالة من الدوال الآتية:

| الوظيفة | الدالة |
|---------|---------|
| | PRODUCT |
| | MOD |
| | LOG10 |
| | ROUNDUP |
| | COS |


مع تمنياتنا لكم بالنجاح


مدرسي المادة


م.م. تبارك قاسم إبراهيم



أ.م.د. عدي صفاء الدين البطاط


عميد الكلية
أ.د. عبد الحسين توفيق شبلي


رئيس القسم
أ.م.د. الهام جعفر الشاوي



University of Basrah
College of Administration & Economics
Department of Accounting
Second Course Exam-Morning & Evening Studies
(First Attempt)
2023-2024



Subject: English Stage: First Time : 2 hours Date : 5 /15

Note: Answer Five questions only (10 degrees for each one).

Q1. When Reading the story of Babur Ali , Answer the Following Questions by Writing True or False:

1. Babur School is in the same village where he lives.
2. Babur's Village has a school where he can attend.
3. Babur Travels to his school by walking three miles.
4. Babur's teaches only one subject at the Anand Shiksha Niketan.
5. Babur wants to stop teaching at the Anand Shiksha Niketan School when he goes to university.

Q2. Rewrite as directed Change the following sentences into different forms of the present tense given in brackets:

1. The sun had been shining brightly since morning. (present perfect continuous tense)
2. The artist mixes the colors. (present continuous tense)
3. Jack is painting the wall. (present perfect continuous tense)
4. The ship sailed yesterday. (simple present tense)
5. We were waiting for the lecture from 4:30 P.M. (present perfect continuous tense)

Q3. Choose the correct answer with present tense:

1. Jack is six years old, but he Spanish and French. (speak, is speaking, speaks).
2. Can you tell me where Pete and Cindy this bread? (is buying, buy, are buying).
3. Stop it! What do you think you? (do, doing, are doing).
4. Be quiet. My parents TV. (are watching, watches, watch).
5. The buses sometimes late. (is arriving, arrive, arrives).

Q4. Choose The Right Possessive Adjectives:


1. Marten bought a new bike. Did you see new bike?
2. Maleeka and Gowtham are getting married. wedding reception begins at 5 p.m. tomorrow.
3. English teacher asked us to complete the grammar exercises on possessive adjectives before Friday.
4. Did you ask her, wherehusband works?
5. Can you bringcertificate file on the table?

Q5. Answer the Following Questions:

1. My brother's daughter is my (aunt, nephew, niece).
2. Your son and daughter are your (children, brothers, parents).
3. What time is it (6:10)
4. She's a She works in a hotel. (receptionist, pilot, architect).
5. He's a He's designs building. (lawyer, journalist, architect).


Q6. Fill in the blanks with verbs (have, go, live, like):

1. They a big house in the middle of city.
2. I'd like to on a beautiful trip to the beach.
3. They'll have enough money to comfortably?
4. He his friends because always helps him.
5. She with her children.


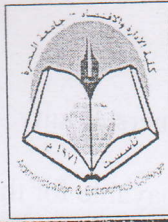

Lecturer

Dr. Amjad S. Abdulali

Best Wishes


Head of Department

Dr. Elham Al Shawi



Not/ answer only four questions ,including the question the first and second

Q1\ choose the correct answer

- 1) **The** process of recording transactions has become more efficient because
 - a. fewer events can be quantified in financial terms.
 - b. computers are used in processing business events.
 - c. more people have been hired to record business transactions.
 - d. business events are recorded only at the end of the year.
- 2) **Which** of the following events is not an accounting transaction?
 - a. Purchasing an office building.
 - b. Selling a delivery truck
 - c. Paying income taxes
 - d. a payroll clerk.
- 3) **Which** of the following would be considered an external user of accounting data ?
 - a. Internal Revenue Service Agent
 - b. Vice-president of finance
 - c. production supervisor
 - d. Cost accountant.
- 4) **Which** of the following would not be considered internal users of accounting data for a company ?
 - a. The president of company
 - b. The controller of a company
 - c. Creditors of a company
 - d Non.
- 5) **Liabilities** of a company would not include
 - a. notes payable.
 - b. accounts payable
 - c. cash.
- 6) **If** X company purchases goods on account for ID4000
 - a. assets and liabilities both decrease by ID4000.
 - b. stockholders' equity increases by ID4000.
 - c. assets increase by ID4000 and liabilities decrease by ID4,000.
 - d. assets and liabilities both increase by ID4,000
- 7- **The** accounting Equation should remain in Balance because every transaction effects How many accounts (a- only one b- only two c-two or more)
- 8-**you** purchase a computer for \$ 75000 cash To record this transaction which of following accounts will be credit (a- cash b- computer Equipment c- owners' Equity)
- 9- **X** company paid off supplies purchased on credit
 - a- Dr. Supplies Cr. A/P)
 - b- (Dr. A/P Cr. Cash)
 - c- (Dr. cash Cr. A/P)
- 10- **X** company provided service on credit for customer
 - a- (Dr. A/R Cr. Service revenue)
 - b- (Dr. cash Cr. A/R)
 - c- (Dr. Service revenue Cr. A/P)
- 11-**X** company sold goods to a customer who paid cash and the rest on account
 - a-(Dr. Sales Cr. cash)
 - b- (Dr. cash and A/R Cr. Sales)
 - c-(Dr. sales Cr. A/P)

12-X company paid cash dividends .
 a-(Dr. cash Cr. Dividends) b- (Dr. dividends Cr. Cash) c-(Dr. owners' Equity Cr. Dividends)

13-X company purchase land by paying half in cash and signing a note payable for the other half .
 a-(Dr. land Cr. Cash and N\P) b- (Dr. cash Cr. Land) c-(Dr. A\P and cash Cr. Land).

Q.2\:\:Answer with TRUE-FALSE STATEMENTS.

- 1- **Investors** and creditors of business firms are two groups who need accounting information.
- 2- **Accounting** communicates financial information about a business enterprise to both internal and external users.
- 3- **External** users of financial statements include labor unions, management and regulatory agencies.
- 4- **Examples** of assets include cash, supplies and accounts payable
- 5- **consistency** is one from Assumption
- 6-**Tangible** Accounts are Classify as Real Accounts
- 7- **Inputs** Accounting are business transactions
- 8- **National** insurance ITD Account is classify as NOMINAL A\C
- 9- **Liabilities** of company would include (A\R)
- 10- **The** balance sheet is the Input flow chart of Accounting
- 11-**Full** disclosure is one from Principles of Accounting
- 12- **Gains** are classify as personal Accounts
- 13- **Production** supervisors would be considered as External user of Accounting Data

Q3// The following transactions were selected from the record of Nader Company.

- April 12 sold merchandise to customer Al- Noor company cash worth \$ 2000.
 15 Sold merchandise to customer AL- Sun company at an invoice price of \$10000 with Terms 3/10, N/30.
 20 Sold merchandise customer AL – Moon company at an invoice price of \$6000 with Terms 3/10, N/30
 23 collected payment from customer AL- sun company from April. 15 sales
 30 AL-Noor Company returned merchandise worth \$200
 May 25 collected payments from customer AL- Moon company from April 20 sale.
 Required:1- 1- Journalized the transactions above 2- Posted to the ledger

Q4\ Analyze the transactions of a business organized as a corporation described below and indicate their effect on the basic accounting equation .use a plus sign (+) to indicate an increase and a minus sign (-) to indicate a decrease .

| | Assets = | Liabilities+ | Stockholders' Equity |
|---|----------|--------------|----------------------|
| 1 . Received cash for services rendered | _____ | _____ | _____ |
| 2 . Purchased office equipment on credit | _____ | _____ | _____ |
| 3 . Paid employees' salaries | _____ | _____ | _____ |
| 4. Received cash from costumer in payment on account | _____ | _____ | _____ |

- 5. Paid telephone bill for the month _____
- 6. paid for office equipment purchased in Transaction 2 . _____
- 7. Purchased office supplies on credit . _____
- 8. Paid cash dividend . _____
- 9. Obtained a loan from the bank _____
- 10. Billed customers for services rendered . _____

Q5\ following T-accounts indicate the activities for the month of April for the Al Huda Company


| Cash | |
|-----------|----------|
| a. 34000 | b. 20000 |
| d. 3000 | c. 4400 |
| f. 1000 | e. 20000 |
| g. 1600 | |
| Purchases | |
| c. 4400 | |


| Notes receivable | |
|---------------------|---------|
| | d. 3000 |
| | f. 1000 |
| Tools and equipment | |
| a. 6000 | |


| Building | |
|---------------|----------|
| b. 100000 | |
| Notes payable | |
| e. 20000 | b. 80000 |


| Accounts Receivable | |
|---------------------|----------|
| | g. 1600 |
| Contributed capital | |
| | a. 40000 |

Required:
Explain transactions a through g. which gave rise to the entries in the T-accounts.


Dean
Dr. Abdul Hussein Tewfik


Head of Dep.
Dr. Elham jaafer Hamid


Lecturer
Dr. Fatima jasim


Maraw Nabee

المادة: رياضيات

المرحلة: الأولى

الوقت: ساعتين

التاريخ: 20/5/2024

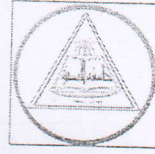


أسئلة الامتحانات النهائية

الفصل الثاني

للعام الدراسي

2024/2023



جامعة البصرة

كلية الإدارة والاقتصاد

قسم المحاسبة

الدراسة الصباحية

ملاحظة: الإجابة عن أربعة أسئلة فقط لكل سؤال (12.5 درجة)

س1: إذا كانت

$$A = \begin{bmatrix} 2 & -1 & 2 \\ 5 & 0 & -2 \\ 0 & 3 & 1 \end{bmatrix}, \quad B = \begin{bmatrix} 1 & 2 & -5 \\ 3 & 1 & -3 \\ -4 & 2 & 7 \end{bmatrix}$$

1. $2A + A$

2. $A + AB$

س2: اجب عن كلا الفرعين:

1. جد الغاية باستخدام (قاعدة لوبيتال) للدوال التالية:

1. $\lim_{x \rightarrow 3} \frac{(x^2 + x - 12)^3}{x - 3}$

2. $\lim_{x \rightarrow -1} \frac{x^2 + 4x + 3}{x + 1}$

2. جد الغاية باستخدام طرق التبسيط للدوال التالية:

1. $\lim_{x \rightarrow 3} \frac{\sqrt{x+1} - 2}{x-3}$

2. $\lim_{x \rightarrow 4} \frac{x^3 - 64}{x - 4}$

س3: اجب عن كلا الفرعين:

1. إذا كانت $(u = x^2, y = \sqrt{u})$ جد $\frac{dy}{dx}$

2. إذا كانت $(t = \sqrt{2x+1}, y = \frac{t^2}{t^2+1})$ جد $\frac{dy}{dx}$

س4: جد المشتقة لثلاث من الدوال التالية :

1. $y = (5 - x^2)^4 + \sqrt{x^2 + 3x}$

2. $y = \frac{1+\sqrt{x}}{1-\sqrt{x}}$

3. $y = \left(\frac{1+3x}{3x}\right)(3 - x)$

4. $y = (x^2 + 2)^5(\sqrt{x^3 - x})$


س5: اذا كانت $y = \frac{1}{x+2}$ جد

1. $f(0) , f(1) , f(2) , f(-1) , f(-2)$


2. جد D_f , R_f


3. ارسم مخطط الدالة $y = \frac{1}{x+2}$


مع تمنياتنا لكم بالنجاح


م.م. نبارك فاسم إبراهيم

مدرسي المادة


م. محمد موسى محسن


عميد الكلية


رئيس القسم

أ.د. عبد الحسين توفيق شبلي

أ.م. د الهام جعفر الشاوي

المادة: اللغة العربية
المرحلة: الأولى
الوقت: ساعتان
التاريخ: ٢٠٢٤ / ٥ / ٢٢



أسئلة الامتحان
النهائي
الدور - الأول
الكورس الثاني
للعام الدراسي
٢٠٢٤/٢٠٢٣



جامعة البصرة
كلية الإدارة والاقتصاد
قسم المحاسبة
الدراسات الصباحية والمسائية

ملاحظة: الإجابة عن جميع الأسئلة .

السؤال الأول / مثل لما يأتي في جملة تامة لخمس نقاط فقط : (١٠) درجات

- ١/ مبتدا يأتي مصدراً مؤولاً .
- ٢/ خبر يأتي جملة فعلية .
- ٣/ اسم (كان) يأتي ضميراً بارزاً .
- ٤/ خبر (إن) يأتي شبه جملة .
- ٥/ حرف مشبه بالفعل يفيد الترجي .
- ٦/ فعل ناقص يفيد النفي .
- ٧/ ألفاظ العقود في حالة جمع المؤنث السالم .

السؤال الثاني / أجب عن فرعين فيما يأتي : (٢٠) درجة

- أ- عدد أغراض الشعر العربي مع شرح موجز لكل غرض منها .
- ب- تكلم عن أثر القرآن الكريم في اللغة والأدب .
- ت- شاعر له قصيدة معروفة في مدح الإمام زين العابدين (ع) ، عرفه وبين مميزاته شعره، وأذكر له خمسة أبيات .

السؤال الثالث / أجب عن فرعين فيما يأتي : (٢٠) درجة

أ) ما الفرق بين الأعداد الآتية من حيث توافق أو اختلاف العدد مع المعدود مع ذكر الأمثلة :

١. الأعداد المركبة (١٣ - ١٩) .
٢. ألفاظ العقود من (٢٠ - ٩٠) .

ب) أذكر الفرق بين مما يأتي مع ذكر الأمثلة :

١. الجنس التام .
٢. الجنس غير التام .

ج) ما الصواب في الاخطاء اللغوية الواردة في أدناه ؟

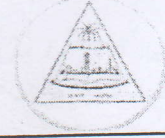
- يعتبر السكان العامل الأساس في عملية التنمية الاقتصادية لما يلعبه من دور هام وحيوياً في القيام بهذه العملية .

مع تمنياتي لكم بالنجاح

رئيس القسم

مدرس المادة

المرحلة الثانية



ملاحظة / الإجابة على أربعة أسئلة فقط

س١:- في ٢٠١٧/٥/١ تمت إحالة مناقصة من قبل لجنة الإحالة الى شركة السيف خالد للمقاولات لإنشاء وحدات سكنية بمبلغ ٨٠٠٠٠٠٠٠٠ دينار واليك البيانات التالية الخاصة بالمناقصة .

- تم استلام رسم الطابع بصك مصدق .
- انجز المقاول العمل وقدمه بثلاث ذرعات وكالاتي :
أ- بتاريخ ٢٠١٧/ ٦/٢٠ قدمت شركة السيف خالد الذرعة الأولى والتي تضمنت :
٣٥٠٠٠٠٠٠٠ دينار عمل منجز
- ب- في ٢٠١٧/ ١١/١ قدمت الشركة الذرعة الثانية وتضمنت :
٦٥٠٠٠٠٠٠٠ عمل منجز
- ت- في ٢٠١٧/١٢/١ قدمت الشركة الذرعة الأخيرة وتضمنت :
٨٠٠٠٠٠٠٠٠ عمل منجز

وفي كل ذرعة يصرف استحقاق المقاول بعد تطبيق التعليمات المالية .

المطلوب:- ١- تسجيل القيود اللازمة الخاصة ب: رسم الطابع ، صرف استحقاق المقاول في كل ذرعة ، وقيود إعادة التأمينات .

س ٢ / أليك البيانات التالية:


- ١- في ٢٠٢٢/٤/٩ صدر امر وزراي من وزير الصحة بايفاد السيد جاسم مديرعام الدائرة الادارية والمالية في الوزارة لحضور مؤتمر في ايطاليا للفترة من ٢٠٢٢ /٤/١٤ الى ٢٠٢٢/٤/٢٥ .
- ٢- تتحمل وزارة الصحة كافة نفقات الموفد .
- ٣- في ٤/١١ منح السيد جاسم سلفة بمبلغ ٨٥٠٠٠٠٠٠٠ دينار بموجب الصك المرقم ١٢١٢٩٨ في ٢/١١ وبمستند الصرف ١١٠/٧٢ .
- ٤- عاد الموفد في ٢٠٢٢/٤/٢٦ وقدم مستندات الاتية بتاريخ ٢٠٢٢/٦/٦ :
أ- تذكرة طائرة من بغداد الى ايطاليا وبالعكس (ذهابا وإيابا) ١١٠٠ دولار علما ان اجور التذكرة السياحية للشخص الواحد ٩٥٠ دولار.
ب- وصل الإقامة في الفندق بمبلغ ٢٥٠ دولار لليلية الواحدة.
ت- اجور نقل من مطار بغداد الى محل سكن الموفد ٥٠٠٠٠٠٠ دينار عند رجوعه علما عند مغادرته استخدمت السيارة الحكومية لنقله الى المطار.
ث- ان سعر الصرف للدولار بتاريخ ٤/١١ هو (١١٨٠ دينار) وفي ٦/٦ هو (١١٨٥ دينار).

المطلوب/ ١. احتساب استحقاق الموفد بموجب قانون الايفاد والسفر رقم ٣٨ لسنة ١٩٨٠ المعدل. علما ان الموفد سافر يوم ٤/١٣

٢. اجراء القيود اللازمة وفق دليل الحسابات GFS.

س٣:- عالج الحالات التالية بقيود محاسبية

- ١- راجع السيد صبري توفيق في ٤/١ / ٢٠٢٠ احدى المستشفيات في محافظة البصرة وادخل للمستشفى لاجراء بعض الفحوصات وقد سدد مبلغ ٦٠٠٠٠٠٠ دينار امانات دخول المستشفى .
وبتاريخ ٢٠٢٠/٤/١٠ خرج السيد صبري توفيق من المستشفى بعد استكمال الفحوصات وقد تحقق بذمته اجور مستحقة لحساب إيرادات الخدمات الصحية عن الفحوصات بمبلغ ٢٥٠٠٠٠٠٠ دينار .
- ٢- في ٢٠٢٠/٥/٣٠ تم اعادة راتب السيد اسعد البالغ ١٠٠٠٠٠٠٠٠ دينار للبنك و ذلك لمرور المدة المسوح بها و لعدم مراجعته لاستلامه ، و في ٢٠٢٠/٦/١٦ تم صرف راتب السيد اعلاه .



ملاحظة: الاجابة على اربعة اسئلة (كل سؤال ١٢,٥ درجة)

- س ١ / في ٢٠٢٢/١/١ اظهرت سجلات شركة النور التجارية رصيد المدينون بمبلغ ٤٠٠٠٠٠٠٠ دينار ورصيد مخصص الديون المشكوك في تحصيلها بمبلغ ٥٢٠٠٠٠٠ دينار. وخلال السنة المالية ٢٠٢٢ حدثت العمليات التالية:
- ١- مبيعات الشركة خلال السنة ١٨٠٠٠٠٠٠ دينار (الثلث منها نقداً والثلثين آجله).
 - ٢- حصلت الشركة مبلغ ٢٠٠٠٠٠٠٠ دينار بصك من المدينون.
 - ٣- اعدمت الشركة دين قدره ٥٠٠٠٠٠٠٠ دينار بسبب افلاس المدين.
 - ٤- حصلت الشركة مبلغ ٤٠٠٠٠٠٠٠ عن ديون سبق اعدامها (نصف يخص السنة الحالية ونصف للسنة الماضية).
 - ٥- قام احد المدينين للشركة بمبلغ ٧٥٠٠٠٠٠٠ دينار بتحويل ما بذمته لصالح الشركة بصورة كمبيالة.
 - ٦- في نهاية السنة المالية ٢٠٢٢ قررت الشركة تكوين المخصص للديون بنسبة من رصيد المدينون وبنفس النسبة المئوية للمخصص عن السنة الماضية.

المطلوب / إثبات المعالجات المحاسبية اللازمة في سجلات شركة النور عن السنة المنتهية ٢٠٢٢/١٢/٣١ ؟

- س ٢ / فيما يلي حركة المخزون السلعي (البضاعة) لشركة الفرات التجارية عن السنة المالية ٢٠٢٢ :
- ١- في ١/١ كانت البضاعة ١٠٠٠ وحدة بسعر ٥٠٠٠ دينار.
 - ٢- في ٢/٥ اشترت الشركة بضاعة بلغت ٥٠٠٠ وحدة بسعر ٥٥٠٠ دينار للوحدة نقداً.
 - ٣- في ٢/١٢ إعادة الشركة ٥٠٠ وحدة من البضاعة المشتراة في ٢/٥ الى المجهز.
 - ٤- في ٤/١ باعت الشركة ٥٠٠٠ وحدة من البضاعة بصك.
 - ٥- في ٤/٥ تم إعادة ١٠٠ وحدة من البضاعة المباعة في ٤/١ الى مخازن الشركة.
 - ٦- في ٥/١ اشترت الشركة بضاعة بلغت ٧٠٠٠ وحدة بسعر ٦٠٠٠ دينار.

فإذا علمت أن شركة الفرات التجارية تطبق نظام الجرد المستمر وطريقة المعدل (متوسط الاسعار AVERAGE)
المطلوب / إثبات المعالجات المحاسبية اللازمة لإعداد بطاقة استاذ المخازن لشركة الفرات التجارية واحتساب كمية وكلفة المخزون المتبقي بمخازن الشركة ؟

س ٣ / في ٢٠٢٠/١/١ اشترت شركة ميسان جميع الاسهم المصدرة لشركة الخليج ذات السمعة الجيدة في السوق و ذلك بهدف دمجها معها و كانت قائمة المركز المالي لشركة الخليج في تاريخ الشراء كما يلي:

| المطلوبات | الموجودات |
|------------------------|--------------------|
| دائنون ١١٠٠٠ | المصرف ٥٠٠٠٠ |
| راس المال ٢٠٠٠٠ | المدينون ٧٠٠٠٠ |
| الارباح المحتجزة ٢٠٠٠٠ | المخزون ٨٤٠٠٠ |
| | صافي المياني ٢٠٠٠٠ |
| | صافي المكائن ١٠٦٠٠ |
| الاجمالي ٥١٠٠٠٠ | الاجمالي ٥١٠٠٠٠ |

و بعد مفاوضات بين الشركتين دفعت شركة ميسان مبلغ ٨٠٠٠٠٠٠٠ دينار عن عملية الشراء و كانت القيمة السوقية لموجودات و مطلوبات شركة الخليج كما يلي:

المصرف ٥٠٠٠٠٠٠ دينار, المدينون ٧٠٠٠٠٠٠ دينار, المخزون ٢٤٤٠٠٠٠ دينار, صافي المباني ٣٠٠٠٠٠٠٠ دينار, صافي الماكائن ١٤٦٠٠٠٠٠ دينار, الدائنون ١١٠٠٠٠٠٠ دينار.

و قد كانت ارباح شركة الخليج خلال الخمس سنوات السابقة كما يلي:

١٢٠٠٠٠٠ دينار, ١١٠٠٠٠٠ دينار, ٢٢٠٠٠٠٠ دينار, ١٤٠٠٠٠٠ دينار, ١٦٠٠٠٠٠ دينار.

و ان معدل الربح الاعتيادي للصناعة التي تعمل فيها شركة الخليج ١٥٪ و معدل الخصم المناسب ٢٥٪. المطلوب/ تقدير قيمة شهرة المحل بطريقة التقييم الشامل و طريقة الدخل فوق العادي و اثبات قيود الشراء ؟

س ٤ / في ٢٠١٥/٤/١ اشترت شركة الثغر سيارة بمبلغ ٨٠٠٠٠٠٠٠ دينار بصك وماكنة بمبلغ ٤٨٠٠٠٠٠٠٠ دينار نقدا واثاث بمبلغ ٢٠٠٠٠٠٠٠٠ دينار بصك من شركة البصرة. و قد تم تقدير العمر الإنتاجي للسيارة بخمسة سنوات وقيمة الانقراض ١٢٠٠٠٠٠٠٠ دينار و قدر العمر الإنتاجي للماكينة ٤٠٠٠ وحدة منتجة و الانقراض لا يمكن بيعها و قدر العمر الإنتاجي للإثاث بستة سنوات وقيمة الانقراض ٢٠٠٠٠٠٠٠٠ دينار.

فاذا علمت ان الشركة تتبع طريقة مجموع سنوات العمر الإنتاجي لاحتساب الاندثار للسيارة و طريقة عدد وحدات الإنتاج لاحتساب اندثار الماكينة و طريقة القسط الثابت لاحتساب اندثار الأثاث.

و في تاريخ ٢٠١٨/٥/١ قامت الشركة باستبدال السيارة بماكنة قيمتها ٣٠٠٠٠٠٠٠٠ دينار مع دفع مبلغ ٤٠٠٠٠٠٠٠٠ دينار نقدا.

في ٢٠١٨/٨/١ قامت الشركة ببيع الماكينة بمبلغ ٥٠٠٠٠٠٠٠٠ دينار علماً ان الماكينة انتجت في السنة الأولى ٧٠٠ وحدة و في السنة الثانية ٩٠٠ وحدة و في السنة الثالثة ٧٧٠ وحدة و في السنة الرابعة انتجت الماكينة ٥٥٠ وحدة. و في ٢٠١٨/١/١ قامت الشركة بتغيير طريقة الاندثار للإثاث من طريقة القسط الثابت الى طريقة مجموع سنوات العمر الإنتاجي. المطلوب: تسجيل قيود المحاسبية اللازمة اذا علمت ان الشركة تسجل أقساط الاندثار بالطريقة غير المباشرة.

س ٥ / في ٢٠١٦/١/١ اشترت شركة العراق ماكينة بمبلغ ٤٠٠٠٠٠٠٠٠ دينار و دفعت بمبلغ ١٠٠٠٠٠٠٠٠ دينار اجور تركيب و قد قدر عمر الماكينة ٥ سنوات و قيمة الانقراض ٥٠٠٠٠٠٠٠٠ دينار. في تاريخ ٢٠١٩/٨/١ قامت الشركة باستبدالها باثاث قيمته ١٥٠٠٠٠٠٠٠٠ دينار مع دفع مبلغ ٢٥٠٠٠٠٠٠٠٠ دينار نقدا. المطلوب:

١- احتساب قسط الاندثار للماكينة وفق طريقة مجموع سنوات العمر الإنتاجي و طريقة القسط الثابت و القسط

المتناقص (مضاعف النسبة) لكل فترة اشغلت بها الماكينة و ماهو اثر ذلك على صافي الربح اذا علمت ان ايراد

المبيعات لشركة العراق كان ١٥٠٠٠٠٠٠٠٠٠ دينار للسنة ٢٠١٦ و ٢٠٠٠٠٠٠٠٠٠٠٠ دينار لسنة ٢٠١٧

و ١٢٠٠٠٠٠٠٠٠٠٠٠ دينار لسنة ٢٠١٨ و ٩٠٠٠٠٠٠٠٠٠٠٠٠ دينار لسنة ٢٠١٩.

٢- تسجيل قيد الاندثار لكل سنة وفق الطريقة المباشرة و الطريقة غير المباشرة.

٣- تسجيل قيد استبدال الماكينة بالطريقة المباشرة و غير المباشرة

م.م ماهر اسماعيل بدران
استاذ المادة

أ.م. د منذر جبار داغر
استاذ المادة

أ.د عبدالحسين توفيق شبلي
العميد

أ.م. د الهام جعفر الشاوي
رئيس القسم



Answer any five out of six questions (10 Marks for each question)

Q1: Complete each sentence with the correct form of the verb:

1. She _____ (study) French every evening.
2. The sun _____ (rise) in the east.
3. They _____ (watch) a movie yesterday.
4. My parents _____ (meet) in college.
5. He _____ (buy) a new car last month.
6. We _____ (have) pizza for dinner yesterday.
7. She _____ (read) a book at the moment.
8. We _____ (have) dinner with friends tonight.
9. We _____ (plan) a trip for next month.
10. My sister _____ (study) for her exams while I was watching TV.

----- (10 Marks)

Q2: Choose the correct form of the verb to complete each sentence:

1. By the time you arrive, I _____ dinner.
a) will cook b) will be cooking c) am cooking d) was cooking
2. This time next year, they _____ on a world tour.
a) will travel b) will be traveling c) travel d) were travel
3. At 8 o'clock tonight, she _____ her presentation.
a) will finish b) will be finishing c) finishes d) will finished
4. By next summer, I _____ French for three years.
a) will study b) will be studying c) study d) will studying
5. At midnight tomorrow, we _____ fireworks.
a) will watch b) will be watching c) watch d) will watching
6. She _____ her friend tomorrow.
a) meets b) is meet c) meeting d) will meet
7. They _____ a new car next month.
a) will buy b) will buys c) buying d) was buying
8. I _____ my homework after school.
a) do b) will do c) doing d) was doing
9. He _____ his parents on the weekend.
a) visits b) will visit c) visiting d) visited
10. We _____ to the beach next summer.
a) go b) will go c) going d) went
11. -----

----- (10 Marks)

Q3: Correct the following sentences:

1. She is readding a book yesterday evening.

3. We listening to music while we were working.
4. He is fixing his car in the garage yesterday.
5. The kids aren't play in the garden yesterday afternoon.
6. While I was studying for my exam, it was starting raining outside.
7. They were having dinner when the power go out.
8. Sarah are singing in the choir during the concert last night.
9. The workers are building the new bridge across the river last month.
10. I am cooking dinner while my roommate was watching TV in the living room.

----- (10 Marks)

Q4: Fill in the blanks the correct form of the verb:

1. What _____ (you/do) last weekend, and what _____ (you/do) at the same time next weekend?
 - a) did you do / will you be doing
 - b) were you doing / will you do
 - c) do you do / will you do
2. She _____ (travel) to Paris last year, and she _____ (visit) Rome next year.
 - a) traveled / will be visiting
 - b) was traveling / will visit
 - c) travels / will visit
3. What _____ (they/watch) on TV last night, and what _____ (they/watch) at the same time tomorrow night?
 - a) did they watch / will they be watching
 - b) were they watching / will they watch
 - c) do they watch / will they watch
4. He _____ (work) as a teacher before, and he _____ (work) as a chef in the future.
 - a) worked / will work
 - b) was working / will be working
 - c) works / will be working
5. Where _____ (you/live) five years ago, and where _____ (you/live) five years from now?
 - a) did you live / will you be living
 - b) were you living / will you live
 - c) do you live / will you live

----- (10 Marks)

Q5: Answer with true (T) or false (F) for the following sentences:

1. "I walked to school every day" - Simple Past
2. "She is eating dinner right now" - Simple Present
3. "They will go to the beach next weekend" - Simple Future
4. "He played football yesterday" - Simple Past
5. "We are traveling to Europe next month" - Simple Future
6. "She dances ballet every Saturday" - Simple Present
7. "They watched a movie last night" - Simple Past
8. "I will finish my homework later" - Simple Future
9. "The train arrives at 9 AM every morning" - Simple Present
10. "She will bake a cake for her birthday" - Simple Future


----- (10 Marks)


Q6: Choose the right answer:


1. She walked to the store yesterday." To "She _____ to the store tomorrow."
a) will walk b) walking c) walk d) will walking
2. "He finished his homework last night." To "He _____ his homework tomorrow."
a) finish b) will finish c) finishing d) will finishing
3. "They visited Paris last summer." To "They _____ Paris next summer."
a) visiting b) were visiting c) will visit d) visits
4. "She cooked dinner yesterday." To "She _____ dinner tonight."
a) will cook b) cooking c) will cooking d) is cooked
5. "I read a book yesterday." "I _____ a book tomorrow."
a) will read b) reading c) will reading d) will going to read
6. "We went to the beach last weekend." Corrected: "We _____ to the beach next weekend."
a) go b) going c) going go d) will go
7. "They ate lunch at noon." Corrected: "They will eat lunch at noon."
a) were eating b) eating c) is eating d) will eat
8. "She studied for her exam last night." "She _____ for her exam tonight."
a) will study b) will studied c) would studied d) studying
9. "We played soccer last Saturday." "We _____ soccer next Saturday."
a) will play b) playing c) will playing d) would played
10. "The birds chirped early this morning." "The birds _____ early tomorrow morning."
a) chirp b) will chirped c) will chirping d) chirping


----- (10 Marks)

Good Luck


Dr. Hadi Alabrow
Lecturer


Dr. Ammar Yousif
Lecturer


Dr. Elham Alshawe
Head of the Dept.


Dr. Abdulhussain Tawfeeq
The Dean

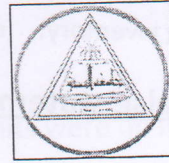
University of Basra

College of Economic and
Administration

Accounting Department



Examination
the first attempt
Second course
2023-2024



SUB: E- Accounting

Class: Second

Date: / 5/2024

NOT: Answer only four equations : The first equation and second equation must be among them

Q1\ choose the correct answer

1- Inventory affect

a- only the balance sheet. b- only the income statement. c- both the balance sheet and the income statement. d- neither the balance sheet nor the income statement.

2- Under which inventory cost flow assumption is the cost of most current purchases matched first with sales revenue (a- FIFO b- LIFO c- AVERAGE COST)

3- What is the method have the same unit cost is used to value ending inventory and cost of goods sold (a- FIFO b- LIFO c- AVERAGE)

4- Which account should be credit for \$ 1800 when writing off the account

(a- Allowance for doubtful account b- A\R c- Bad debits)

5- IN some companies often sell their account Receivable to a firm known ((a- factor b- customer c- Non)

6- A company Estimates \$ 10000 of its 100000 A\R will be un collectible the allowance for doubtful account presently has a Debit of \$ 3000, The adjusting entry will be include a ----- to Bad debits

(a- Debit of \$ 13000 b- Credit of \$ 23000 c- Debit of \$ 10000 d- Credit of \$ 10000)

7- What are the two methods for accounting uncollectible accounts

(a- Direct write off method b- Allowance for doubtful accounts c- Both of them)

8--XX company uses the allowance for doubtful account method When XX company writes off an uncollectible account, There are(a- Increase in the allowance account b- Increase in the A\R c- Decease in A\R d- Non of these

9-. AL-khalid Company purchased a depreciable asset for \$150,000. The estimated residual value is \$10,000, and the estimated useful life is 8 years. The double-declining balance method will be used for depreciation. What is the depreciation expense for the second year on this asset?

a. 17,500 b. 26,250 c. 28,125 d. 37,500

10-The cost of goods available for sale is allocated to the cost of goods sold and the :

a-beginning inventory. b- ending inventory. c- cost of goods purchased. d-gross profit.

Q2\ answer with True or false statement

- 1- The account inventory will appear on the balance sheet as current asset at an amount often reflects with (COST))
- 2-Time as a consideration is important inventory management.
- 3- The factors computing depreciation cost, salvage value , useful life)
- 4- The another name of fixed assets long –term live
- 5-The main difference between a perpetual inventory system and a periodic inventory system .is compute the cost of goods sold
- 6- In a manufacturing business, inventory that is ready for sale is called raw materials inventory.
- 7- Allowance for Doubtful Accounts on the balance sheet. is offset against accounts receivable.
- 8- A debit balance in the Allowance for Doubtful Account is the normal balance for that account.
- 9-The cost of goods sold compute on base FIFO increase the net income
- 10-Middle – in First out is common cost flow assumption used in costing inventory.

Q3 The December 31, 2022 balance sheet of **YYY** Company had Accounts Receivable of \$500,000 and a credit balance in Allowance for Doubtful Accounts of \$33,000. During 2023, the following transactions occurred: sales on account \$1,600,000; sales returns and allowances, \$50,000; collections from customers, \$1,400,000; accounts written off \$35,000; previously written off accounts of \$5,000 were collected.

Instructions:

- (a) Journalize the 2016 transactions.
- (b) If the company uses the percentage of sales basis to estimate bad debts expense and anticipates 3% of net sales to be uncollectible, what is the adjusting entry at December 31, 2023?
- (c) If the company uses the percentage of receivables basis to estimate bad debts expense and determines that uncollectible accounts are expected to be 4% of accounts receivable, what is the adjusting entry at December 31, 2023?

Q4 AL Ali Company uses a periodic inventory system. The following Details for the inventory account for the month of January 2023 are:

| | <u>Units</u> | <u>per unit price</u> |
|---------------------|--------------|-----------------------|
| Balance. 1/1/2023 | 400 | \$ 5.00 |
| Purchase. 1/15/2023 | 200 | 5.30 |
| Purchase 1/28/2023 | 200 | 5.50 |

At end of the month (1/30/2023) inventory showed that 240 units were on hand.

Required

- 1- How many units did the company sell during January 2023?
- 2- If the company uses FIFO .what is the value of the ending inventory?
- 3- If the company uses LIFO. What is the cost of goods sold.
- 4- If the company uses Average . What is the gross profit for the month if the sell price ID 10 for each.

Q5\The following information about two machines for XXX company .


| Machi ne' | \$Cost | Purchase Date | Useful life | Salvage value | Depreciation method . | Date Exchange\ change | Market value |
|-----------|--------|---------------|-------------|---------------|-----------------------|-----------------------|--------------|
| 1 | 660000 | 7/1/2005 | 5 years | 6000 | Double-declining | 1/1/2008 | \$500000 |
| 2 | 40000 | 1/1/2006 | 5 years | 5000 | Straight- line | 1\1\2008 | |

Additional information


- 1- At 1\1\2008 The management decided the new useful life for(Machine 2) **7** years .
- 2- The company paid \$**150000** besides the old Machine (Machine 1).

Required


- a- compute the Depreciation and record the entry depreciation on each machine
- b- Record the entry of exchange of machine 1 at the date of exchange..
- c- compute revised Depreciation for Machine 2 at 31\12\2009


Dean

Dr. Abdul Hussein Tewfik


Head of Dep.

Dr. Elham jaafer Hamid


Lecturer

Dr. Fatima jasim

Hanna Salah



جمهورية العراق
وزارة التعليم العالي والبحث العلمي
جامعة البصرة
كلية الإدارة والاقتصاد/ قسم المحاسبة



أسئلة الامتحان النهائي للدراسات الصباحية والمسائية-الكورس الثاني للعام الدراسي 2023-2024 - الدور (الاول)
المادة : بحوث عمليات المرحلة : الثانية التاريخ : / / 2023 الزمن : 2 ساعة

ملاحظة: الاجابة عن اربع اسئلة فقط ، توزع الدرجة بالتساوي على جميع الاسئلة.

Q1:A/ A company produces two products on A,B,C. The following table summarizes the data of the problem:

| Product | Minutes per unite | | | Unite profit |
|----------------------------|-------------------|----|----|--------------|
| | A | B | C | |
| 1 | 10 | 6 | 8 | 20\$ |
| 2 | 5 | 20 | 10 | 30\$ |
| Maximum daily availability | 25 | 30 | 40 | |

Formulate the problem as an linear programming model.

B/ Formulate the duality L.P. model

$$\text{Min } Z = 2X_1 - X_2 + X_3$$

S.t

$$3X_1 + X_2 - 3X_3 \leq 60$$

$$X_1 - X_2 + 2X_3 \geq 45$$

$$X_1 - X_2 + X_3 = 12$$

$$X_2, X_3 \geq 0 ; X_1 : \text{unrestricted}$$

Q2/ Solve the following transportation problem by Least cost method

| | 1 | 2 | 3 | 4 | 5 | Supply |
|----------|-----|-----|-----|-----|-----|--------|
| Center 1 | 100 | 150 | 200 | 140 | 35 | 400 |
| Center 2 | 50 | 70 | 60 | 65 | 80 | 200 |
| Center 3 | 40 | 90 | 100 | 150 | 130 | 150 |
| Demand | 100 | 200 | 150 | 160 | 140 | |

Q3/ Solve the following linear programming by Simplex method

$$\begin{aligned} \text{Max } Z &= 8x_1 + x_2 \\ \text{S.T. } 4x_1 + 8x_2 &\leq 24 \\ x_1 &\leq 8 \\ x_1, x_2 &\geq 0 \end{aligned}$$

Q4/Solve the following linear programming problem by Graphical method

$$\begin{aligned} \text{Max } Z &= x_1 + 3x_2 \\ \text{S.T. } 3x_1 + 4x_2 &\leq 12 \\ x_1 + 2x_2 &\leq 4 \\ x_2 &\geq 1 \\ x_1, x_2 &\geq 0 \end{aligned}$$

Q5/ Find the optimum solution of B player for the following game matrix

| | B1 | B2 | B3 |
|----|----|----|----|
| A1 | 3 | -2 | 1 |
| A2 | 9 | 7 | -3 |
| A3 | 10 | 8 | -5 |

رئيس القسم
ام.د. الهام جعفر حسين

مع تمنياتي للجميع بالنجاح
مدرس المادة
ام.د. وليد ميه رودين

مدرس المادة
ام.د. بهاء عبد الرزاق قاسم



جامعة البصرة
كلية الادارة والاقتصاد
قسم المحاسبة
اسئلة الامتحان النهائي الكورس الثاني
للعام الدراسي 2024-2023
نموذج (1)



المادة: وحدات غير هادفة للربح المرحلة: الثانية التاريخ: 2024/5/23 الزمن: ساعتين فقط

ملاحظة: الإجابة عن ثلاثة أسئلة فقط على ان يكون السؤال الأول من ضمنها

س1/ بتاريخ 2016/12/31 ظهر رصيد حساب الاشتراكات في سجل الأستاذ العام الابرار الخيرية ما يلي:
ح/ الاشتراكات

| | | | | | |
|-------|-----------------|------------|-------|----------------------|------------|
| 8/15 | المصرف | 10,000,000 | 12/31 | اشتراكات مقدمة | 1,000,000 |
| 1/1 | اشتراكات مقدمة | 2,000,000 | 1/1 | اشتراكات مستحقة | 4,000,000 |
| 12/31 | اشتراكات مستحقة | 3,000,000 | 12/31 | الإيرادات والمصروفات | 10,000,000 |
| | | 15,000,000 | | | 15,000,000 |

وخلال سنة 2017 حدثت العمليات التالية:

1. في 2/5 قدمت مديرية بلدية البصرة مبلغ 5,000,000 دينار الى الجمعية بشيك كإعانات.
2. في 4/16 تم تحصيل اشتراكات نقدية من الأعضاء بما يعادل 80% من رصيد حساب الاشتراكات لسنة 2016.
3. في 5/15 قدم السيد منير الحسن وهو رجل اعمال عراقي مبلغ 9,000,000 دينار الى الجمعية بشيك، وقد حدد ثلث المبلغ لبناء مدرسة في احدى المناطق النائية.
4. في 8/18 تم إنفاق المبلغ بالكامل على بناء المدرسة، ونظراً لعدم اكتمالها فقد تقدمت الجمعية بطلب الى السيد منير الحسن لتمويلها بمبلغ إضافي.
5. في 8/20 وافق السيد منير الحسن على طلب التمويل وقدم للجمعية مبلغ 6,000,000 دينار بشيك.
6. في 10/4 اكتملت المدرسة بأنفاق إجمالي مقداره 7,000,000 دينار.

المطلوب/ اثبات المعالجات المحاسبية في سجلات الجمعية لعام 2017 وقيود الاقفال نهاية العام. (20 درجة)

س2/ أجب بكلمة صح أو خطأ عن كل ما يأتي: (15 درجة)

1. ان المحاسبة في الوحدات غير الهادفة للربح تستخدم نفس الأسس والمبادئ المحاسبية المتعارف عليها (GAAP).
2. ان الوحدة غير الهادفة للربح تمثل كيان قانوني على شكل تجمع بشري يعمل وفق نظام معين ويكونون علاقة وتعاون فيما بينهم لتحقيق اهداف معينة.
3. تتنافس الوحدات غير الهادفة للربح فيما بينها من أجل تقديم أفضل خدمة ومنفعة لأفراد المجتمع.
4. يتم قياس درجة نجاح الوحدات غير الهادفة للربح بما تحققة من فائض نهاية السنة المالية.
5. للوحدات غير الهادفة للربح شخصية معنوية مستقلة كما هو الحال عليه في الوحدات الاقتصادية.
6. تتشابه المحاسبة المالية مع المحاسبة للوحدات غير الهادفة للربح في ان كلاهما يعتمدان نظام القيد المزدوج.
7. ان معيار تخصيص الأموال يحلل الأموال الواردة الى أموال حرة وأموال مطلقة.
8. احدى الأسس التي تحكم عملية الاثبات في الوحدات غير الهادفة للربح هو الاثبات الفوري اولاً بأول.
9. يتم قياس الإيرادات التي تحصل عليها الوحدات غير الهادفة للربح على أساس القيمة المستحقة فقط.
10. يعني معيار السببية والارتباط ان تكون هناك علاقة سببية بين الانفاق وانشطة الوحدة.

س3/ بتاريخ 2010/1/5 قررت جمعية الهلال الأحمر عمل حفلة خيرية يخصص ربحها الى مرضى السرطان تقام على قاعة المسرح الوطني بتاريخ 2010/3/31، وفيما يلي البيانات الخاصة بهذه الحفلة:

1. في 1/8 تم طبع بطاقات الدعوة بمبلغ 150,000 دينار.
2. في 1/10 تم صرف أجور الهاتف لمسؤولي الحفلة بمبلغ 250,000 دينار.
3. في 1/22 تم دفع اجار المسرح بمبلغ 1,000,000 دينار.
4. في 1/25 تم التعاقد مع شركة دعاية لعمل حملة إعلانية للحفلة بمبلغ 450,000 دينار.
5. في 1/26 تم التعاقد مع فرقة بصرية لأحياء جزء من الحفلة بمبلغ 2,500,000 دينار.
6. في 1/28 تم التعاقد مع مطرب لأحياء المتبقي من الحفلة بمبلغ 1,000,000 دينار.
7. في 1/29 تم تحديد سعر تذكرة الحفلة بمبلغ 30,000 دينار للشخص الواحد.
8. في 2/15 تم التعاقد مع وكيل لبيع 50 تذكرة بمعمولة مقدارها 10% من سعر التذكرة، وتم استلام المبلغ نقداً.
9. لغاية 3/10 باعت الجمعية 200 تذكرة.

المطلوب/ تسجيل قيود اليومية أعلاه وتصوير حساب تحليل ناتج الأنشطة. (15 درجة)

س4: في 2011/2/24 قرر مجلس إدارة إحدى الجمعيات الخيرية اصدار ورقة يانصيب. وفي 2011/2/25 تم طبع أوراق اليانصيب بكلفة اجمالية بلغت 250,000 دينار. في 2/28 سلمت الجمعية لمتعهدي التوزيع 23,000 ورقة يانصيب بسعر بيع 2,000 دينار للورقة الواحدة (القيمة الاسمية). ولغاية 5/1 باع متعهدي التوزيع 21,500 ورقة يانصيب بمعمولة بيع مقدارها 5% من قيمة أوراق اليانصيب.

هذا وقد سدد متعهدي التوزيع المبالغ المستحقة عليهم، وتم استرجاع الأوراق غير المباعة (المرتجعة). وفي 5/20 تم سحب اليانصيب وقد بلغ مجموع الجوائز الموزعة على الفائزين 9,000,000 دينار.


المطلوب/ تسجيل قيود اليومية في سجلات الجمعية وتصوير حساب أوراق اليانصيب. (15 درجة)

مع تمنياتنا لكم بالنجاح




العميد

أ.د. عبد الحسين توفيق الشبلي



رئيس القسم

أ.م.د. الهام جعفر الشاوي



مدرس المادة

م.م. سمير إسماعيل الربيعي

5500000

المادة: المالية العامة
الزمن: ساعتين
المرحلة: الثانية
(صباحي - مسائي)



أسئلة الامتحان النهائي
الكورس الثاني - الدور الاول
للعام ٢٠٢٣-٢٠٢٤



جامعة البصرة
كلية الإدارة والاقتصاد
قسم المحاسبة

ملاحظة: الإجابة عن اربعة اسئلة فقط (لكل سؤال ١٢,٥ درجة)

س ١/ بين مفهوم (سته) مما يأتي:

- ١- الضرائب المباشرة.
- ٢- النفقات غير العادية.
- ٣- الموازنة العامة للدولة.
- ٤- الضرائب على التركات.
- ٥- الإعانات الاقتصادية.
- ٦- الحاجات الخاصة.
- ٧- المالية العامة المعوضة (التدخلية).
- ٨- القروض العامة.

س ٢/ تعرف الرقابة بانها اهم مراحل دورة الموازنة ولها عدة اهداف وأنواع حسب الغرض من دراستها، وضح اهم هذه الأهداف وماهي أنواع الرقابة وضحها بالتفصيل.

س ٣/ قارن بين كل مما يأتي:

أولاً: الفروقات بين الرسم والضريبة.

ثانياً: الدومين العام والدومين الخاص

س ٤/ أولاً: ضع كلمة صح او خطأ امام العبارات التالية مع تصحيح الخطأ ان وجد:


- ١- هناك صعوبة في التمييز بين الزيادة في قيمة العقار الناتجة من تقدم المجتمع (تطور عمراني) و بين الزيادة الناتجة عن مجهود المالك .
- ٢- تفرض الضريبة على الزيادة الطارئة على راس المال عند حصول زيادة في قيمته.
- ٣- تحصل الدولة على القروض الداخلية من الاشخاص الطبيعيين المقيمين فوق اراضيها بغض النظر عن جنسياتهم.
- ٤- ان الاساس النقدي هو تحميل الحساب الختامي لأي سنة مالية بالنفقات التي دفعت فعلا والايرادات التي قبضت فعلا خلال تلك السنة.
- ٥- تندرج الاهداف المالية والاجتماعية تحت بند الدومين التجاري والصناعي التابع للدومين الخاص.
- ٦- تعد الصفة النقدية للرسم هي اتخاذ عيني وليس نقدي بالنسبة للإيرادات.

ثانياً/ تلجأ اغلب الدول وعندما تواجه زيادة في نفقاتها العامة لا تستطيع تغطيتها من مواردها المالية الاعتيادية الى موارد مالية غير اعتيادية ومن هذه الموارد هي القروض، اذكر اثنين من أنواع القروض العامة مع الشرح.

س ٥ / اختر الإجابة الصحيحة: (لستة فقط)


١. ضريبة الدخل هي احد أنواع:
أ- الضرائب المباشرة. ب- الضرائب غير المباشرة. ج- الضرائب على رأس المال. د- الضرائب على التركات.
٢. تدرج الموجودات والمطلوبات تحت بند:
أ- الميزانية العمومية ب- الموازنة العامة ج- الضرائب د- الاساس النقدي
٣. من الاسباب الظاهرية لزيادة النفقات العامة:
أ- انخفاض قيمة النقد. ب- اتساع إقليم الدولة وزيادة عدد السكان. ج- التغير في القواعد الأولية للحسابات الحكومية. د- كل مما سبق.
٤. حسب نظرية فان الدخل عبارة عن قوة شرائية نقدية متجددة تتدفق بصورة دورية خلال مدة زمنية محددة.
أ- التجدد ب- الاثراء ج- الدورية د- المنبع
٥. ان فقرة الرواتب التقاعدية تكون تحت بند:
أ- صور النفقات العامة ب- الاسباب الظاهرية لزيادة النفقات ج- التبويب الوظيفي د- الاجور والمرتبات
٦. يشمل الدومين العقاري على:
أ- ما تملكه الدولة من اسهم في محفظة الدولة. ب- ما تملكه الدولة من متنزهات ومتاحف وأماكن اثرية. ج- ما تملكه الدولة من المناجم والمحاجر (الدومين الاستخراجي). د- ما تملكه الدولة من مشاريع صناعية.
٧. هناك عدة معايير للفرقة بين الضرائب المباشرة والضرائب غير المباشرة منها:
أ- المعيار الإداري. ب- المعيار الاقتصادي. ج- معيار ثبات المادة الخاضعة للضريبة. د- كل مما سبق.

مع تمنياتنا لكم بالنجاح والتوفيق




عميد الكلية

أ.د عبد الحسين توفيق شبلي



رئيس قسم المحاسبة

أ.م.د الهام جعفر حميد



مدرسي المادة

م.م. اديان فلاح

م.م. ايمان رعد

المرحلة الثالثة

المادة: مالية متقدمة
المرحلة: الثالثة
التاريخ: ١١ / ٥ / ٢٤
الوقت: ساعتان



أسئلة الامتحان النهائي
الكورس الثاني
٢٠٢٤/٢٠٢٣
الدور الاول



جامعة البصرة
كلية الإدارة والاقتصاد
قسم المحاسبة

ملاحظة: الاجابة على ثلاثة اسئلة على ان يكون السؤال الاول بضمنها (إجباري)

س ١ / في ١/١/٢٠٢٠ قامت شركة بغداد بشراء شركة البصرة مقابل إصدار 1400000 سهم من أسهمها بقيمة سوقية إجمالية تبلغ 3500000 دينار بالإضافة إلى دفع مبلغ قدره 1000000 دينار نقداً إلى مساهمين شركة البصرة مقابل شراء كافة أسهمهم في الشركة بالإضافة إلى ذلك تحملت شركة بغداد النفقات التالية:
(نفقات إصدار وتسجيل الأسهم 75000 دينار ، نفقات استشارات قانونية 125000 دينار) كما كانت القيمة السوقية لبعض من الموجودات والمطلوبات لشركة البصرة بتاريخ الشراء كالاتي : المخزون ١٨٧٥٠٠٠ دينار ، الموجودات الثابتة 4800000 دينار ، القروض والسندات 2000000 دينار.
واليك الميزانية العمومية للشركتين كما هي عليه في ١/١/٢٠٢٠ :

| التفاصيل | شركة بغداد | شركة البصرة |
|-----------------------------|------------|-------------|
| النقدية والمديون | ٤٠٠٠٠٠٠ | ٥٠٠٠٠٠٠ |
| المخزون | ٣٠٠٠٠٠٠ | ١٢٥٠٠٠٠ |
| الموجودات الثابتة | ١١٥٠٠٠٠٠ | ٤٠٠٠٠٠٠٠ |
| الاجمالي | ١٨٥٠٠٠٠٠ | ٥٧٥٠٠٠٠٠ |
| الدائنون | ٢٠٠٠٠٠٠ | ١٠٠٠٠٠٠٠ |
| ارصدة دائنة | ١٥٠٠٠٠٠٠ | - |
| القروض والسندات | - | ٢٥٠٠٠٠٠٠ |
| رأس المال (١ دينار / سهم) | ٧٥٠٠٠٠٠٠ | ٥٠٠٠٠٠٠٠ |
| علاوة الاصدار | ٤٥٠٠٠٠٠٠ | ٦٢٥٠٠٠٠٠ |
| الارباح المحتجزة | ٣٠٠٠٠٠٠٠ | ١١٢٥٠٠٠٠٠ |
| الاجمالي | ١٨٥٠٠٠٠٠٠ | ٥٧٥٠٠٠٠٠٠ |

المطلوب / تسجيل قيد الاستبعاد واعداد ورقة العمل (لاندماج الشركتين عن طريق الشراء) ؟ (٢٠ درجة)

س ٢ / في ١/١/٢٠٢٢ طرح مجموعة من المؤسسين لشركة مساهمة مختلطة ١٠٠ مليون سهم الى الاكتتاب العام عن طريق أحد المصارف العراقية بعد ان اكتتبوا بالحد الأدنى من النسبة القانونية المتاحة لهم وكانت تفاصيل الاكتتاب والتأسيس للشركة كما يلي :

- ١- اكتتب جمهور المستثمرين بنسبة ٦٥%.
- ٢- شرط الاكتتاب أن يدفع ٦٠% نقداً والباقي يسدد على قسطين كل اربعة اشهر.
- ٣- بلغت مصاريف الاكتتاب ٥ مليون دينار.

وحصلت على المعلومات الإضافية التالية :

- ١- استلمت الشركة القسط الاول من المساهمين في موعد استحقاقه بدون اي مشاكل.
- ٢- في موعد استحقاق القسط الثاني استلمت الشركة مبلغ القسط ماعدا مساهم واحد يمتلك ٢ مليون سهم في الشركة المساهمة عجز عن السداد.
- ٣- بعد إنذار المساهم العاجز من قبل مجلس الادارة تقدم المساهم خلال مدة الانذار وسدد ما بذمته.

المطلوب / إثبات المعالجات المحاسبية اللازمة ؟

(١٥ درجة)

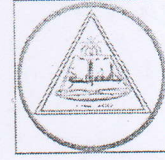
اقلب الصفحة

س ٣ / ظهرت الأرصدة التالية في سجلات احد الشركتين

المرحلة: الثالثة
التاريخ: ٢٠٢٤ / ٥ / ١٣
الوقت: ٢ ساعة



أسئلة الامتحان النهائي
الدور الأول للعام الدراسي
٢٠٢٤/٢٠٢٣
تدقيق (A)



جامعة البصرة
كلية الإدارة والاقتصاد
قسم المحاسبة

ملاحظة: الإجابة عن ثلاثة أسئلة فقط على ان يكون السؤال الأول من ضمن الإجابة

- س١ // (أ) صح ام خطأ مع تصحيح الخطأ؟ (١٠ درجة)
١. ان كلمة التدقيق اشتقت من التعبير اللاتيني *audire* وتعني المشاهدة
 ٢. ان مختصر AAA يعني معهد المدققين الداخليين
 ٣. يعد مبدأ التكامل الادراك الرقابي من مبادئ ركن التقرير
 ٤. ان التحريفات المادية الناتجة من غش الإدارة هي اقل خطرا من الغش الناتج من المحاسبين
 ٥. ان تقييم العرض العام للقوائم المالية احد بنود فقرة الراي في تقرير المدقق
 ٦. ان التدقيق التفصيلي هو تبويب التدقيق من حيث حدوده
 ٧. تدقيق نظم المعلومات هو التحقق من امن وسلامة المعلومات لاعطاء التقارير المالية والتشغيلية في الوقت المناسب وبطريقة صحيحة
 ٨. يشمل الضبط الداخلي أربعة مجموعات من القواعد الرقابية
 ٩. ان وجود نظام التدقيق الداخلي لايعني عن التدقيق الخارجي وهذا يؤكد صفة التكامل
 ١٠. ان النظرية التي قام عليها علم التدقيق هي نظرية الملكية
- ب// كونك مدقق اجب عن الاتي (١٠ درجة)
١. عند تدقيق المبيعات تبين أن المحاسب أثبت قيد مبيعات نقدية كالتالي: من ح/ الذمم المدينة الى ح / المبيعات
 - بين اين يظهر تأثير هذا الخطأ نهاية الفترة المالية
 ٢. عند تدقيق الذمم الدائنة لدى الشركة تبين أن المحاسب أثبت عملية شراء أجل بمبلغ ١٥٠٠ دينار كما يلي:
١٥٠٠ ح / الذمم الدائنة
١٥٠٠ ح / مشتريات
ماهو قيد التصحيح الواجب تنفيذه في الدفاتر
 ٣. هناك خطأ في ترحيل عملية بيع في الطرف المدين ١٠٠٠٠٠٠ وفي الطرف الدائن ١٠٠٠٠٠٠٠، بين نوع راي المدقق في هذه الحالة
 ٤. لم يستطع المدقق ان يحصل على الأدلة الكافية والمناسبة الخاصة بالاحداث المالية لشركة ، بين نوع راي المدقق هنا
 ٥. لاحظ المدقق ان الشركة لم تتبع النسب القانونية في عمل المخصصات

س٢ // املا الفراغات التالية (15 درجة)

١. يجب على المدققين ان لا يشتركوا في أنشطة غير قانونية او غير معروفة ام معيبة لمهنة التدقيق او للمؤسسة التي يعملون بها وهذه احد -----
٢. مبادئ التدقيق الداخلي هي ----- و----- و-----
٣. ان ----- التأكد من الفاعلية والكفاءة الاقتصادية لاداء الموظفين ومدى التزامهم بتطبيق الانظمة والقوانين
٤. ان ----- تشمل المواقف والتصرفات والسياسات والإجراءات التي تتبناها الإدارة العليا بشكل عام كجزء من نظام الرقابة الداخلية
٥. ان اركان التدقيق هي ----- و-----
٦. ----- تتكون عادة من المدراء غير التنفيذيين لزيادة فاعلية التدقيق الداخلي

..... يتبع

س 3 // اختر الإجابة الصحيحة (15 درجة)

1. العلاقة بين التدقيق والرقابة هي:

أ- الرقابة جزء من التدقيق ب- التدقيق جزء من الرقابة ج- لا يوجد علاقة بين التدقيق والرقابة د- التدقيق والرقابة مصطلحان لمعنى واحد

2. يوجه تقرير المدقق الخارجي في الشركة المساهمة الى:

أ- مجلس الإدارة ب- المدير العام ج- الهيئة العامة للمساهمين د- مدير التدقيق الداخلي

3. ان وجود لجنة تدقيق في مجلس الادارة يعزز مبدأ:

أ- الموضوعية ب- الاستقلالية ج- الكفاءة المهنية د- لاشيء مما ذكر

4. التاريخ الذي يثبت على تقرير المدقق الخارجي هو:

أ- تاريخ بداية عمليات التدقيق ب- تاريخ انتهاء عمليات التدقيق ج- تاريخ توقيع كتاب الالتزام د- لاشيء مما ذكر

5. الوسيلة الملائمة للحصول على دليل صحة أرصدة الأطراف الخارجية في الدفاتر هي:

أ- التدقيق المستندي ب- التدقيق المحاسبي ج- الجرد الفعلي د- المصادقات الخارجية

6. أهم عنصر من عناصر نظام الرقابة الداخلية وأكثرها تأثيراً في الرقابة هو:

أ- البيئة الرقابية ب- الأنشطة الرقابية ج- تقييم المخاطر د- المراقبة

7. وفق معايير التدقيق الدولية يلجأ المدقق الخارجي الى الامتناع عن الرأي في حالة:

أ- وجود شك في استمرارية الشركة ب- توفر أدلة على وجود تلاعب في القوائم المالية ج- وجود حدود على نطاق عملية التدقيق د- جميع ما ذكر

8. ان مخاطر الرقابة تعني:

أ- وجود أخطاء مادية دون اكتشافها من خلال اجراءات التدقيق ب- وجود أخطاء مادية دون اكتشافها من قبل نظام الرقابة الداخلية

ج- المخاطر ضمن الأنشطة في ظل عدم وجود نظام رقابة داخلية د- لاشيء مما ذكر

9. الخلط بين المصاريف الرأسمالية والإيرادية يصنف ضمن:

أ- الأخطاء الارتكابية ب- الأخطاء الكتابية ج- الأخطاء المتكافئة د- الأخطاء الفنية

10. أحد الضوابط الرقابية في عمليات النقدية داخل الشركات:

أ- فصل المهام المتعارضة ب- الرقابة الثنائية ج- الجرد الدوري د- كل ما ذكر أعلاه

س 4 // اجب عن الاتي (15 درجة)

عدد فقط أنواع الرقابة الداخلية

عدد فقط مراحل تدقيق البيانات المالية

بين الاختلاف بين التدقيق اليدوي والتدقيق الالكتروني

أ.م.د. الهام جعفر الشاوي

رئيس القسم

أ.م.د. الهام جعفر الشاوي

مع تمنياتنا لكم بالنجاح

أ.م. جمانة حنظل التميمي

مدرسة المادة

أ.م. جمانة حنظل التميمي

المادة: محاسبة مصادر
المرحلة: الثالثة
الوقت :- ساعتان
التاريخ: 2024/ /



أسئلة الامتحان النهائي
للعام الدراسي
2024/2023



جامعة البصرة
كلية الإدارة والاقتصاد
قسم المحاسبة

ملاحظة // الاجابة على ثلاثة اسئلة على ان يكون السؤال الاول من ضمنها

(20 درجة)

س1/ اكتب الاجابة الصحيحة :

| | | | | |
|---|----------------------------|---|----------------------|-------------|
| 1- احدى العبارات التالية صحيحة | | | | |
| <input type="radio"/> وفقا للطريقة الايرادية فإن جميع نفقات البحث والاستكشاف تظهر في الميزانية | | | | |
| <input type="radio"/> وفقا للطريقة الرأسمالية فإن جميع نفقات البحث والاستكشاف تظهر في الميزانية | | | | |
| <input type="radio"/> وفقا لطريقة المجهودات الناجحة فإن جميع نفقات البحث والاستكشاف تظهر في الميزانية | | | | |
| <input type="radio"/> جميع العبارات خاطئة | | | | |
| 2- وفقا للمجهودات الناجحة اذا تبين وجود النفط في المنطقة يتم اقبال حساب العقود المعلقة | | | | |
| <input type="radio"/> في حساب العقود غير المعدة ثم بعد ذلك يتم اقبال الاخير في حساب العقود المنتجة | | | | |
| <input type="radio"/> في حساب العقود المنتجة | | | | |
| <input type="radio"/> في حساب العقود غير المعدة ثم بعد ذلك يتم اقبال الاخير في حساب الارباح والخسائر | | | | |
| <input type="radio"/> في حساب الارباح والخسائر | | | | |
| 3- اذا كانت لديك عقود متنازل عنها وكان مخصص اندثار العقود غير معدة اقل من قيمة العقود المتنازل عنها فإن: | | | | |
| <input type="radio"/> العقود المتنازل عنها تقفل في حساب الارباح والخسائر | | | | |
| <input type="radio"/> العقود المتنازل عنها تقفل في حساب اندثار عقود غير معدة | | | | |
| <input type="radio"/> العقود المتنازل عنها تقفل في حساب مخصص اندثار عقود غير معدة | | | | |
| <input type="radio"/> جزء من العقود المتنازل عنها تقفل في مخصص اندثار عقود غير معدة والباقي يقفل في ح/ أ.خ | | | | |
| <input type="radio"/> جميع الاجابات خاطئة | | | | |
| 4- يمكن غلق عقود الامتياز الغير معدة | | | | |
| <input type="radio"/> بقيد الرسلمة فقط | | <input type="radio"/> الإنتاج والتنازل فقط | | |
| <input type="radio"/> قيد الإنتاج فقط | | <input type="radio"/> بقيد الرسلمة والتنازل فقط | | |
| <input type="radio"/> قيد التنازل فقط | | <input type="radio"/> لا شيء مما سبق | | |
| 5- لديك ارصدة العقود الغير المعدة التالية: العقد (1) بكلفة 400000، العقد (2) بكلفة 35000، العقد (3) بكلفة 565000، وكان رصيد مخصص اندثار العقود الغير المعدة 100000، وخلال العام تنازلت الشركة عن العقد رقم (2)، علما ان الشركة تحتفظ بمخصص اندثار نهاية كل عام كنسبة من اجمالي ارصدة العقود، فإن قسط اندثار العقود الغير معدة لهذه السنة يكون | | | | |
| 31500 | 100000 | | | |
| 25000 | 96500 | | | |
| 125000 | اجابة اخرى اذكرها هنا..... | | | |
| 6- اذا كان معدل نفاذ تكلفة العقود بالطريقة الجزئية يساوي 0.4 فإنه حسب الطريقة الامريكية يساوي | | | | |
| الضعف | 1.2 | | | |
| النصف | لا شيء مما سبق | | | |
| 0.4 | | | | |
| 7- احدى العناصر التالية لا تدخل في حساب نفاذ العقود المنتجة | | | | |
| أجور عمال الحفر | مصاريف صيانة الات الحفر | مصاريف عملية الاتام | اندثار الات والمعدات | جميع ما سبق |

س2// تقوم احدى الشركات النفطية بعمليات الحفر في منطقة عقد امتياز رقم (13) وكانت نفقات الحفر الخاصة بالبنر كما يلي: (جميع المبالغ بالالف الدنانير

- في 1/1 قامت الشركة بدفع 3000 عن مصاريف جيولوجية لتحديد مكان الحفر نقداً
- في 1/15 قامت الشركة بسحب المواد التالية من مخازن الشركة: انابيب تغليف 4500(3000 منها لا يمكن الاستفادة منه في عمليات حفر أخرى)، اسمنت 2200(استعملت بالكامل)، حوامض ومواد مذيبة 3000(استعمل منها 1900).
- في 2/30 بلغت مصاريف تنظيف الارض وتسوية المكان وتهينته للحفر 5400، كما بلغت اجور عمال الحفر 9600، تم تسديد كل منهما عن طريق المصرف.
- في 4/1 بلغت تكاليف الوقود والقوى المحركة لآلات الحفر 15000، كما بلغت مصاريف صيانة وتصليح آلات الحفر 20000 تم دفع كليهما عن طريق المصرف.
- في 5/1 تبين ان البئر منتج ولكن بكميات قليلة جدا لذا قررت الشركة ايقاف الحفر واعتبار البئر جافاً، وبلغت تكاليف سد البئر 5000 دفعت نقداً.
- في 5/10 قدرت قيمة انابيب التغليف المستعملة ب 1500 وتم ارجاعها مع المواد الغير مستعملة الى مخازن الشركة بعد انتهاء عمليات الحفر
المطلوب: اثبات القيود اليومية اللازمة ومعالجة النفقات في دفاتر الشركة.
(15 درجة)

س3/ بدأت احدى الشركات النفطية بالبحث والاستكشاف وكانت مصاريف التراخيص 2000,000 دينار ومصاريف تسجيل العقود 1500,000 دينار، مصاريف مسح الارض والمسح الجيولوجي 1600,000 دينار واجور عمال 500,000 دينار، مصاريف اجراء الاختبارات اللازمة 750,000 دينار ، مصاريف صيانة وتصليح الات 250,000 دينار، مصاريف تغليف البئر 300,000 دينار، تكاليف تنقيب الابار 600,000 دينار، تكاليف اجهزة فصل النفط عن المياه 150000 دينار وتكاليف نقلها من المخازن 400,000 دينار وبعد الاكتشاف ان الابار منتجة وفي نهاية العام قدر الاحتياطي النفطي ككل ب 3800,000 برميل والاحتياطي المقدر استخراجة من الابار المحفورة 1800,000 برميل وان الانتاج خلال العام 200,000 برميل .

م/احتساب قسط النفاد لتكاليف العقد وتكاليف الحفر غير الملموسة حسب الطريقة الجزئية وتسجيل القيود اللازمة لاقساط النفاد.
(15 درجة)

س4// انتجت احدى الشركات 5000 برميل من النفط الخام ، وبمقدار ما يولد 1500000000 وحدة حرارية من الغاز الطبيعي ، فإذا كانت التكلفة الاجمالية المشتركة بين المنتجات هي 123000000 ، وبافتراض ان سعر البيع 15000 لبرميل النفط ، و 10 للقدم المكعب من الغاز اوجد ماييلي:

- 1- نصيب برميل النفط الواحد من التكاليف المشتركة بالطريقة البيعية
 - 2- نصيب القدم المكعب الواحد من الغاز بالطريقة البريطانية
 - 3- نصيب الغاز الطبيعي من التكاليف المشتركة بالطريقة البيعية
 - 4- نصيب النفط الخام الاجمالي من التكاليف الاجمالية بالطريقة البريطانية
- (15 درجة)

العميد

أ.د. عبدالحسين توفيق

تمنياتنا لكم بالنجاح
الرئيس القسم

أ.م. د الهام الشاوي

مدرسي المادة

م. م. محمد فرج م مصطفى محمد السندي



الإجابة عن أربعة أسئلة فقط (لكل سؤال 12.5 درجة):-

س1// اليك بعض الفروقات المتعلقة بالرواتب والأجور التي تم اكتشافها خلال شهر آذار في إحدى شركات القطاع العام والمطلوب: إجراء القيود اليومية اللازمة للتصحيح

1- هناك مبلغ 180 دينار مخصصات تعويضية لمجموعة من الموظفين لم تصرف في الشهر السابق وجب صرفها ضمن استحقاق الشهر الحالي.

2- عند التدقيق ظهر أن هناك مبلغ المخصصات العائلية لأحد الموظفين هي 540 دينار وليس 450 دينار كما سجلت سهواً وقد تم تعديل الفرق وصرف له بشيك.

3- هناك مخصصات مهنية وفنية سددت زيادة الى أحد الموظفين بمبلغ 250 دينار لمدة شهرين فقرر المحاسب مطالبة الموظف بها واستحصلها نقداً

4- بلغت المكافأة التشجيعية لأحد الموظفين 1500 دينار لم تصرف له خلال الشهر السابق تقرر صرفها بشيك، كما تم صرف مبلغ 80 دينار نقداً مكافئة الى أحد الأشخاص من غير المنتسبين عن خدماته المقدمة للشركة.

5- هناك أجور أعمال إضافية صرفت لأحد الموظفين العرب دون استحقاق خلال الشهرين الماضيين بمعدل 200 دينار شهرياً، قرر المحاسب استقطاعها وتسديد الرواتب المعدلة، علماً بأن الرواتب غير المستلمة كانت 4500 دينار.

س2// ثبت المعالجات القيدية للعمليات التي تمت في سجلات إحدى شركات القطاع الاشتراكي:

1- في إحدى الشركات العامة كان رصيد اعتمادات مستندية لحساب الغير يبلغ 495000 دينار ولم يتضمن هذا المبلغ مصاريف النقل للبضاعة المستوردة وذلك بسبب عدم ورود القوائم الخاصة بها، ولغرض الإسراع بتسليم البضاعة للعميل (القطاع الخاص) قدرت الشركة مصاريف النقل بمبلغ 5000 دينار وقامت بتسليم البضاعة الى العميل وصفي الحساب معه بعد ان احتسبت الشركة عمولتها البالغة 10% من الكلفة الكلية للاعتماد علماً بأن الشركة سبق لها وان استلمت من العميل مبلغ 300000 دينار ، وخلال نفس السنة استلمت الشركة قوائم هذه المصاريف وقامت بتسديدها وكانت على فرض: أ- بمبلغ 5000 دينار ب- مبلغ 7000 دينار ج- مبلغ 3000 دينار

2- في إحدى الشركات المساهمة اظهر حساب النشاط الجاري في 2018/12/31 رسيدا دائنا بمبلغ 600000 دينار وقد قرر مجلس إدارة الشركة ان الأرباح المتبقية بعد احتساب ضريبة الدخل البالغة 50000 دينار وحصة مؤسسة التقاعد والضمان الاجتماعي للعمال البالغة 150000 دينار والرصيد المتبقي من الأرباح يوزع نصفها على حملة الأسهم والنصف الاخر حصة الشركة، ويتم توزيع حصة الشركة من هذه الأرباح بين احتياطي التوسعات والاحتياطي العام واحتياطي المتنوعات والفائض بالتساوي حسب التعليمات النافذة.

س3// ثبت المعالجات القيدية للعمليات التي تمت في سجلات إحدى شركات القطاع العام:

1- في 2023/12/31 قدرت أجور الكهرباء عن شهر كانون الأول سنة 2023 بمبلغ 500 دينار بسبب عدم ورود قائمة الكهرباء لهذا الشهر وخلال شهر شباط سنة 2024 وردت قائمة الكهرباء لشهر كانون الأول 2023 وكانون الثاني 2024 وكانت بمبلغ 1400 دينار وتم تسديدها بشيك وقد وزعت كلفتها بالتساوي بين الشهرين.

2- بتاريخ 4/1 قامت الشركة بتسديد مبلغ 12000 دينار عن الأيجار السنوي لأحد مخازنها بشيك.

3- بتاريخ 4/15 قامت الشركة بتسليف لجنة الصيانة مبلغ 250000 لغرض تصليح الطابعات وقد بلغت قيمة التصليح الفعلية لدى القطاع العام مبلغ 225000 دينار وبعد انجاز التصليح قدمت الوصلات الى المحاسب مع باقي المبلغ نقداً

- 4- 4- بتاريخ 12/31 سددت الشركة أجور الهاتف عن الدور السكنية العائدة للمنتسبين والبالغة 1800 دينار في حين كانت المبالغ المتحصلة منهم 600 دينار تم استلامها نقداً
- 5- 5- دفعت الشركة مبلغ 400 دينار الى احدى شركات القطاع العام لنقل البضائع العائدة لها الى فروعها في المحافظات الشمالية كما تم شراء خمسة قوالب من الشركة العامة للصناعات الثقيلة بكلفة 2500 دينار للقالب الواحد بشيك.

س 4 // اثبات المعالجات القيدية للعمليات التي تمت في سجلات احدى شركات القطاع الاشتراكي:

- 1- قامت الشركة بتصنيع صناديق خشبية بحدود 50 صندوق لأغراض حفظ قناني الماء المقطر أثناء توزيعها على الوكلاء وذلك في ورشها الإنتاجية وقد بلغت كلفتها 500 ألف دينار.
- 2- شطبت ديون خلال السنة مقدارها 100000 دينار نتيجة لأفلاس بعض المدينون من القطاع الخاص
- 3- قدم أحد الموظفين الذي كان موفداً لغرض متابعة نشاط الشركة في إحدى المحافظات الجنوبية بعد عودته قوائم مصاريف ايفاده بمبلغ 180 الف دينار وسدد المبلغ المتبقي من السلفة نقداً والتي كان مبلغها 200 الف دينار.
- 4- قامت الشركة العامة للصناعات الميكانيكية بشراء الآلات بلغت كلفتها الاجمالية 1000000 دينار احتسب عليها الاندثار ابتداءً من 2012 /7/1 ونسب اندثارها السنوي 12.5 % قسط ثابت، علماً ان الآلات احتسب عليها الاندثار في تواريخ مختلفة اثناء فترة الاستخدام في: 2019/12/31-----2020/12/31-----2021/12/31

س5/ اثبات المعالجات القيدية للعمليات التي تمت في شركات متنوعة الانشطة لسنة 2019:

- 1- قامت الشركة العامة للصناعات الكهربائية بتصنيع ثلاث قوالب في ورشها لحساب الشركة العامة لصناعة القابلات في ديالى بكلفة 18000 دينار استلمت بشيك علماً بأن كلا الشركتين تتبعان لهيئة واحدة.
- 2- قامت الشركة ببيع بضاعة الى وكيلها في بابل قيمتها 80000 دينار بشيك بعد منحه خصماً قدره 10% من قيمة المبيعات وقد تضمن عقد البيع ان تتحمل الشركة أجور نقل البضاعة الى مخازن الوكيل المشتري البالغة 2000 دينار سددت بشيك الى أحد متعهدي النقل الخاص.
- 3- قامت الشركة الوطنية للتجارة بتسويق بعض منتجات الشركة العامة للخياطة حيث استلمت منها 2000 بدلة رجالية وقامت ببيعها بسعر 40 دينار للبدلة الواحدة الى عملائها من القطاع الخاص لقاء عمولة قدرها 20% من سعر البيع وقد تم تسديد كلفة البدلات الى الشركة العامة للخياطة بشيك بعد استقطاع مبلغ العمولة.
- 4- بتاريخ 9/30 لدى تسديد أجور التنظيف الى المتعهد بموجب العقد حسب استحقاقه الشهري البالغ 3000 دينار تقرر تغريمه مبلغاً يعادل أجور يومين من استحقاقه نتيجة لإهماله كما تم استقطاع 10% عن تأمينات تعاد الى المتعهد عند انتهاء مدة العقد، وسدد المبلغ المتبقي بشيك.

مع تمنياتنا لكم بالنجاح

مدرسي المادة

أ.م.د عبد الخالق ياسين البدران

أ.م.د عدي صفاء الدين البطاط

عميد الكلية

رئيس القسم

أ.د عبد الحسين توفيق شبلي


أ.م.د الهام جعفر الشاوي

امتحان الكورس الثاني

الدور الاول

للعام الدراسي

٢٠٢٣ - ٢٠٢٤



كلية الادارة و الاقتصاد

قسم المحاسبة

المرحلة الثالثة

المادة: تدريب محاسبي

الزمن: ساعتان

التاريخ: ٢٠/٥/٢٠٢٤

ملاحظة : الاجابة على ثلاثة اسئلة على ان يكون السؤال الاول من ضمنها

س١// الاتي تفاصيل رواتب ثلاثة موظفين باحد الاقسام في شركة س والمطلوب اعداد قائمة الراتب :

- ١- الرواتب الاسمية على التوالي ٤,٠٠٠,٠٠٠, ٥,٠٠٠,٠٠٠, ٦,٠٠٠,٠٠٠ .
- ٢- عدد الاطفال ٢,٥,٤ على التوالي.
- ٣- مخصصات الزوجية ٥٠,٠٠٠ دينار والاطفال ١٠,٠٠٠ للطفل .
- ٤- مخصصات الخطورة ٦% من الراتب الاسمي.
- ٥- مخصصات الطعام ٧% من الراتب الاسمي.
- ٦- مخصصات النقل ٨% من الراتب الاسمي.
- ٧- الاستقطاعات الضريبية ٩% من الراتب الاسمي .
- ٨- استقطاعات التقاعد ١٠% من الراتب الاسمي .
- ٩- استقطاعات السلف ٨% من الراتب الاسمي .

س٢// اجب عما يلي بدقة وتركيز:

- ١- يتكون الراتب من الراتب الاسمي والمخصصات مطروحا منها جميع الاستقطاعات . لكن المخصصات تختلف من وحدة اقتصادية الى اخرى وبنفس الوحدة الاقتصادية حسب طبيعة نشاط الموظف.
- ٢- موظف متزوج ولديه طفل رزق بطفل جديد ما هو الاستحقاق المالي المترتب لهذا الموظف . وما هي الاجراءات الواجب عملها من قبل الوحدة الاقتصادية التي يعمل بها الموظف.

س٣/ ضع عبارة صح او خطأ مع تصحيح العبارة الخاطئة لكل ما يلي :

- أ- اذا كان رصيد ح/المصرف بدفاتر الشركة مدين فانه يتم طرح الصوك التي لم تقدم للصرف الظاهرة بكشف المصرف عند مطابقة ح/المصرف بدفاتر الشركة.
- ب- اذا كان رصيد ح/المصرف بدفاتر الشركة دائن فانه يتم اضافة الصوك التي تقدم للصرف الظاهرة بكشف المصرف عند مطابقة ح/المصرف بدفاتر الشركة.
- ج- اذا كان رصيد ح/المصرف بدفاتر الشركة مدين فانه يتم اضافة العمولات المصرفية الظاهرة بكشف المصرف عند مطابقة ح/المصرف بدفاتر الشركة.
- د- اذا كان رصيد ح/المصرف بدفاتر الشركة دائن فانه يتم طرح العمولات المصرفية الظاهرة بكشف المصرف عند مطابقة ح/المصرف بدفاتر الشركة.

س٤: تقدم مسؤول مختبرات الحاسوب في كلية الادارة والاقتصاد بطلب شراء ٥٠٠ حاسبة جديدة الى السيد عميد كلية الادارة والاقتصاد. ما هي الاجراءات الواجب اتخاذها لغرض الشراء علما ان السيد العميد قد وافق على الشراء بعد التأكد من توفر التخصيص اللازم للشراء.

مع تمنياتي لكم بالنجاح و التوفيق

رئيس القسم

أ.م.د. الهام الشاوي

مدرس المادة

د. مهند هادي صالح

العميد

أ.د. عبد الحسين توفيق شبلي

المادة: منهجية بحث

المرحلة: الثالثة

التاريخ: / / 2024

الزمن: ساعتين



أسئلة الامتحان النهائي/الكورس
الاول / الدور الاول
للعام الدراسي
2024/2023



جامعة البصرة

كلية الإدارة والاقتصاد

قسم المحاسبة

الدراسة الصباحية والمسائية

ملاحظة: الاجابة عن اربعة اسئلة وتوزع الدرجات بالتساوي على جميع الاسئلة

س1/ املا الفراغات التالية :

1- البحث العلمي في ايجاز شديد عبارة عن عملية فكرية منظمة يقوم بها شخص يسمى من اجل تفصي الحقائق في شأن مشكلة معينة تسمى باتباع طريقة علمية منظمة تسمى للوصول الى نتائج صالحة للتعميم على المشاكل المماثلة تسمى تحت رعاية وتوجيه شخص خبير يسمى

2- الاشارة للمصادر في متن البحث اذا باحث واحد (..... و..... و.....).

3- تقسم البحوث اعتمادا على الغرض منها الى و.....

4- تقسم العينات الى و.....

س2/ عدد ما يلي

1- انواع الاستبيان 2- انواع العينات الاحتمالية 3- مصادر الحصول على مشكلة البحث .

س3/ ضع صح امام العبارات الصحيحة وخطا امام العبارات الخاطئة

- 1- الدول المتقدمة تولي اهتماما كبيرا للبحث العلمي لأنها ادركت ان عظمة الامم تكمن في قدرات ابنائها العلمية والفكرية .
- 2- اهم السمات الاساسية لعنوان البحث الجيد هو الجرأة في مناقشة الآراء المختلفة .
- 3- يتضمن البحث ثلاث مكونات رئيسة هي صفحات البحث الاولى والدراسات السابقة والمصادر والملاحق .
- 4- علامة التنصيص (".....") يوضع بينهما النص المقتبس مباشرة .
- 5- عند كتابة مستخلص البحث يجب ان لا يزيد حجم هذا المستخلص عن 25 سطرا .
- 6- تقسم البحوث اعتمادا على الاساليب المستخدمة فيها الى بحوث وصفية وتاريخية وتطبيقية

س4/ عدد اهم اخلاقيات البحث العلمي.

س5/ ماذا تتضمن صفحة عنوان البحث ?

العميد

رئيس القسم

مدرس المادة

مدرس المادة

أ.م.د. الهام جعفر الشاوي أ.د. عبدالحسين توفيق شبلي

م.م. رحاب احمد عبد

أ.م. وفاء عبد الصمد

المادة: محاسبة تكاليف 2
المرحلة: الثالثة
التاريخ: 2024/ 5/25
الوقت: ساعتان



أسئلة الامتحان
النهائي-الكورس
الثاني
للعام الدراسي
2024/2023



جامعة البصرة
كلية الإدارة والاقتصاد
قسم المحاسبة
الدراسات الصباحية
والمسائية

ملاحظة: الإجابة على (اربعة أسئلة) فقط ولكل سؤال 12.5 درجة.

س 1 - قدمت اليك احدى الشركات البيانات الآتية الخاصة بالمرحلة الإنتاجية الأولى لشهر شباط الذي يتكون فيها المنتج من مادتين حيث تضاف المادة المباشرة (أ) و(ب) في بداية المرحلة .
أولاً - الوحدات: وحدات أدخلت خلال الشهر 560 وحدة، وحدات تمت وحولت خلال الشهر ؟ وحدة، إنتاج تحت التشغيل آخر المدة 100 وحدة (تامة 80% من تكاليف التشكيل).
ثانياً - تكاليف أضيفت خلال الشهر: مواد مباشرة: المادة (أ) 224000 دينار والمادة (ب) 112000 دينار وتكاليف التشكيل 351000 دينار.

المطلوب (12.5 درجة): اعداد تقرير انتاج المرحلة الاولى عن شهر شباط؟

س 4 - قدمت اليك شركة الفيحاء للنجارة التي تعتمد نظام تكاليف الأوامر الإنتاجية البيانات الآتية الخاصة بشهر آذار: تكاليف الشهر: المواد المباشرة لأمر العمل (A) 200000 دينار، ولأمر العمل (B) 60000 دينار، والأجور المباشرة لأمر العمل (11) 140000 دينار، لأمر العمل (B) 22000 دينار. وتكاليف إنتاج تحت التشغيل اول المدة (الامر B) (مواد مباشرة 180000 دينار، والأجور المباشرة 98000 دينار، والتكاليف الصناعية الإضافية المحملة 78000 دينار). وتحمل التكاليف الصناعية الإضافية لأمر العمل (A) على أساس الأجور المباشرة وبمعدل 100%، ولأمر العمل (B) على أساس ساعات عمل الآلات، وان التكاليف الصناعية الإضافية المخططة قدرها 1200000 دينار وساعات الآلات المخططة 600 ساعة، وساعات الآلات الفعلية للأمر (B) 30 ساعة. التكاليف الصناعية الفعلية للشهر 248000 دينار.

المطلوب (12.5 درجة):

- 1 - اعداد قوائم تكاليف الامرين (A) و (B). (10 درجة)
- 2 - تسجيل قيد معالجة فروقات تحميل التكاليف الصناعية الإضافية. (2.5 درجة)

س 1- اجب عن كلا الفرعين (12.5 درجة):

أولاً - املأ الفراغات: (7.5 درجات):

- 1 - إذا كانت التكاليف الصناعية الإضافية الفعلية أقل من التكاليف الصناعية المحملة، يكون التحميل..... من اللازم.
- 2 - تعامل التكاليف الصناعية الإضافية الثابتة بطريقة الكلفة المتغيرة على انها.....
- 3- تعد تكاليف التلف الطبيعي.....
- 4 - الوحدات المستلمة من المرحلة السابقة تعد في هذه المرحلة بانها تامة بنسبة.....
- 5 - لتحديد الإنتاج المكافئ بموجب طريقة.....، تضرب وحدات إنتاج تحت التشغيل أول المدة بنسبة الاتمام الواجب اكمالها.

ثانياً - اجب ب صح ام خطأ مع تصحيح الخطأ (5 درجات):

- 1 - تعد تكاليف التلف غير الطبيعي جزءاً من تكاليف المنتجات.
- 2 - ان الفرق بين طريقة الكلفة الكلية وطريقة الكلفة المتغيرة وهو معالجة تكاليف التسويق الثابتة.
- 3 - بطريقة الوارد أولاً وصادر أولاً، كلفة إنتاج تحت التشغيل آخر المدة = تكاليف الفترة السابقة + تكاليف الفترة الحالية.
- 4 - ان كلفة الوحدة المنتجة لأمر العمل = اجمالي تكاليف الأوامر ÷ عدد وحدات الأوامر.
- 5 - بطريقة المتوسط المرجح، كلفة وحدة الإنتاج المكافئ = تكاليف اضيفت خلال الشهر ÷ وحدات الإنتاج المكافئ للفترة.

س 5 - توفرت المعلومات الآتية عن نشاط احدى الشركات الصناعية: الوحدات المنتجة 2900 وحدة، الوحدات المباعة 2500 وحدة، انتاج تام آخر المدة 400 وحدة، سعر البيع 200 دينار للوحدة، ربح التشغيل حسب طريقة الكلفة الكلية 80000 دينار، الكلفة الأولية للوحدة 90 دينار، تكاليف صناعية إضافية متغيرة للوحدة 20 دينار، تكاليف تسويق متغيرة للوحدة 6 دينار، اجمالي التكاليف الصناعية الإضافية 174000 دينار، اجمالي تكاليف التسويق 30000 دينار، اجمالي التكاليف الإدارية 15000 دينار.


المطلوب

- 1 - اعداد ربح التشغيل بموجب طريقة الكلفة المتغيرة. (10 درجة)
- 2 - تفسير سبب الفرق بين ربح التشغيل بموجب الطريقتين (الكلفية والمتغيرة). (2.5 درجة)


س 2 - اختر الإجابة الصحيحة مع اثبات الحل (12.5 درجة):

- 1 - سعر بيع الوحدة 25 دينار والوحدات المنتجة والمباعة 2000 وحدة، وكلفة الصنع المتغيرة للوحدة 14 دينار، واجمالي تكاليف التسويق المتغيرة 4000 دينار، التكاليف الصناعية الثابتة 6000 دينار وتكاليف التسويق والإدارية الثابتة 2500 دينار، فإن مجمل ربح الوحدة هو:
أ - 12 دينار ب - 8 دينار ج - 10 دينار د - 7 دينار ه - غير ذلك
- 2 - انتاج تحت التشغيل آخر المدة 800 وحدة (تامة 60% من تكاليف التشكيل) والمواد المباشرة تضاف في نهاية المرحلة فإن وحدات الإنتاج المكافئ له من المواد المباشرة وتكاليف التشكيل على التوالي هي:
أ - 480 وحدة، 600 وحدة ب - صفر وحدة، 480 وحدة ج - 800 وحدة، 480 وحدة د - صفر وحدة، 800 وحدة
- 3 - إذا كان ربح التشغيل وفقا لطريقة الكلفة المتغيرة 566800 دينار، ومخزون آخر المدة 1220 وحدة، والتكاليف الصناعية الإضافية المتغيرة للوحدة 20 دينار والثابتة 10 دينار، فإن ربح التشغيل بطريقة الكلفة الكلية هو:
أ - 597000 دينار ب - 579000 دينار ج - 769000 دينار د - 686500 دينار ه - غير ذلك
- 4 - نقطة الفحص في نهاية المرحلة، انتاج تحت التشغيل اول المدة 200 وحدة تام بنسبة 75% من المواد المباشرة وتكاليف التشكيل، وانتاج تحت التشغيل اخر المدة 100 وحدة تام بنسبة 50% من المواد المباشرة وتكاليف التشكيل، وحدات أدخلت للمرحلة 1000 وحدة، ونسبة التالف الطبيعي 15% من الوحدات الجيدة، وحدات التالف 200 وحدة، فإن وحدات التالف الطبيعي هي:
أ - 125 وحدة ب - 135 وحدة ج - 100 وحدة د - 150 وحدة ه - غير ذلك
- 5 - انتاج تحت التشغيل اول المدة 1200 وحدة تام 50% من جميع عناصر التكاليف، انتاج تحت التشغيل آخر المدة 1400 وحدة تام 80% من جميع عناصر التكاليف، وحدات تمت وحولت 4400 وحدة، فإن الوحدات التي بدء بها خلال الشهر هي:
أ - 6400 وحدة ب - 4600 وحدة ج - 5600 وحدة د - 3600 وحدة ه - غير ذلك


مع تمنياتي لكم بالنجاح


العميد

د. عبد الحسين توفيق شبلي



رئيس القسم

أ.م. د. الهام الشاوي


مدرسي المادة

أ.د. هاشم علي هاشم م. علي طه ياسين

المرحلة الرابعة



ملاحظة: اجب عن خمسة اسئلة، على ان تتضمن الاجابة كافة القوانين و العمليات الحسابية للنتائج.

Q 1/ Lara trading company had the following estimated cash flow for 2022. Total cash receipts for quarter 1 is \$656,000 and for quarter 2 is \$1,555,000 and for quarter 3 is \$509,000 and for quarter 4 is \$766,000 , also for the total cash disbursements; for quarter 1 is \$809,000 and for quarter 2 is \$ 690,000 and for quarter 3 is \$777,000 and for quarter 4 is \$802,000 . The company begins the first month with \$47,500 in cash and requires a minimum cash balance of \$20,000. The company may borrow any amount from a local bank at an annual interest rate of 6%. The borrowing must occur at the beginning of any quarter and all repayments must be made at the end of any quarter. Interest must be repaid at the time of loan repayment

Required: Prepare the company's cash budget for 2022.

------(10 Mark)

Q 2/ Soda Manufacturing Company provides vending machines for soft-drink manufacturers. The company has been investigating a new piece of machinery for its production department. The old equipment has a remaining life of three years and the new equipment has a value of \$52,650 with a three-year life. The expected additional cash inflows are \$25,000 per year. What is the internal rate of return?

------(10 Mark)

Q 3/ AlBasra Company, need to invest in one of the two projects, A and B; the initial investment for A project is \$80,000, estimated life is 5 years, and the salvage value is \$4000, with cash inflows for year1 \$20,000, year2 \$40,000, year3 \$40,000, year4 \$12,000, year5 \$8,000. For B project the initial investment is \$120,000, estimated life is 5 years, and the salvage value is \$8000, with cash inflows for year1 \$80,000, year2 \$40,000, year3 \$20,000, year4 \$12,000, year5 \$8,000.

Required: which project must be accepted assuming that the discount rate is 12%?

------(10 Mark)

Q 4/ Wallace Company provides the following data for next year:

| Month | Budgeted Sales |
|----------|----------------|
| January | \$120,000 |
| February | 108,000 |
| March | 132,000 |
| April | 144,000 |

The gross profit rate is 40% of sales. Inventory at the end of December is \$21,600 and target ending inventory levels are 30% of next month's sales, stated at cost.

Required:

1. What is the budgeted purchases for January in total?
2. What is the budgeted purchases for February in total?

----- (10 Mark)

Q 5/ Springtime Flower Company provides flowers and other nursery products for decorative purposes in medium to large sized restaurants and businesses. The company has been investigating the purchase of a new specially equipped van for deliveries. The van has a value of \$123,750 with a seven-year life. The expected additional cash inflows are \$27,500 per year. What is the payback period on this investment?

----- (10 Mark)

Q 6/ Sleepeze Company produces a variety of pillows for catalog sales. Two popular types are the standard pillow and the neck roll. The standard pillow sells for \$4, and the neck roll sells for \$3. Projected sales of the two types of pillows for the coming four quarters are as follows:

| | Standard Pillow | Neck Roll |
|----------------|-----------------|-----------|
| First quarter | 5,000 | 4,000 |
| Second quarter | 6,500 | 4,500 |
| Third quarter | 10,000 | 8,000 |
| Fourth quarter | 5,500 | 5,000 |

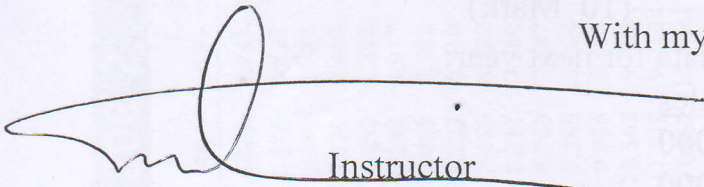
The president of the company believes that the projected sales are realistic and can be achieved by the company. In the factory, the production supervisor has received the projected sales figures and gathered information needed to compile production budgets. He found that 300 standard pillows and 170 neck rolls were in inventory on January 1. Company policy dictates that ending inventory should equal 20 percent of the next quarter's sales for standard pillows and 10 percent of next quarter's sales for neck rolls.


Required:


1. Prepare a sales budget for each quarter and for the year in total. Show sales by product and in total for each time period.
2. Prepare a separate production budget for each product for each of the first three quarters of the year.

----- (10 Mark)

With my best wishes


Instructor
Dr. MOHANAD MOHAMED


Head of Dept.
Dr. ELHAM AL-SHAWI


Dean of College
Dr. ABDULHUSIEN TAWFEEQ

APPENDIX B: PRESENT VALUE TABLES

EXHIBIT 20B-1

Present Value of \$1*

| Periods | 2% | 4% | 6% | 8% | 10% | 12% | 14% | 16% | 18% | 20% | 22% | 24% | 26% | 28% | 30% | 32% | 40% |
|---------|-------|-------|-------|-------|-------|-------|-------|-------|-------|-------|-------|-------|-------|-------|-------|-------|-------|
| 1 | 0.980 | 0.962 | 0.943 | 0.926 | 0.909 | 0.893 | 0.877 | 0.862 | 0.847 | 0.833 | 0.820 | 0.806 | 0.794 | 0.781 | 0.769 | 0.758 | 0.714 |
| 2 | 0.961 | 0.925 | 0.890 | 0.857 | 0.826 | 0.797 | 0.769 | 0.743 | 0.718 | 0.694 | 0.672 | 0.650 | 0.630 | 0.610 | 0.592 | 0.574 | 0.510 |
| 3 | 0.942 | 0.889 | 0.840 | 0.794 | 0.751 | 0.712 | 0.675 | 0.641 | 0.609 | 0.579 | 0.551 | 0.524 | 0.500 | 0.477 | 0.455 | 0.435 | 0.364 |
| 4 | 0.924 | 0.855 | 0.792 | 0.735 | 0.683 | 0.636 | 0.592 | 0.552 | 0.516 | 0.482 | 0.451 | 0.423 | 0.397 | 0.373 | 0.350 | 0.329 | 0.260 |
| 5 | 0.906 | 0.822 | 0.747 | 0.681 | 0.621 | 0.567 | 0.519 | 0.476 | 0.437 | 0.402 | 0.370 | 0.341 | 0.315 | 0.291 | 0.269 | 0.250 | 0.186 |
| 6 | 0.888 | 0.790 | 0.705 | 0.636 | 0.564 | 0.507 | 0.456 | 0.410 | 0.370 | 0.335 | 0.303 | 0.275 | 0.250 | 0.227 | 0.207 | 0.189 | 0.133 |
| 7 | 0.871 | 0.760 | 0.665 | 0.583 | 0.513 | 0.452 | 0.400 | 0.354 | 0.314 | 0.279 | 0.249 | 0.222 | 0.198 | 0.178 | 0.159 | 0.143 | 0.095 |
| 8 | 0.853 | 0.731 | 0.627 | 0.540 | 0.467 | 0.404 | 0.351 | 0.305 | 0.266 | 0.233 | 0.204 | 0.179 | 0.157 | 0.139 | 0.123 | 0.108 | 0.068 |
| 9 | 0.837 | 0.703 | 0.592 | 0.500 | 0.424 | 0.361 | 0.308 | 0.263 | 0.225 | 0.194 | 0.167 | 0.144 | 0.125 | 0.108 | 0.094 | 0.082 | 0.048 |
| 10 | 0.820 | 0.676 | 0.558 | 0.463 | 0.386 | 0.322 | 0.270 | 0.227 | 0.191 | 0.162 | 0.137 | 0.116 | 0.099 | 0.085 | 0.073 | 0.062 | 0.035 |
| 11 | 0.804 | 0.650 | 0.527 | 0.429 | 0.350 | 0.287 | 0.237 | 0.195 | 0.162 | 0.135 | 0.112 | 0.094 | 0.079 | 0.066 | 0.056 | 0.046 | 0.025 |
| 12 | 0.788 | 0.625 | 0.497 | 0.397 | 0.319 | 0.257 | 0.208 | 0.168 | 0.137 | 0.112 | 0.092 | 0.076 | 0.062 | 0.052 | 0.043 | 0.036 | 0.018 |
| 13 | 0.773 | 0.601 | 0.469 | 0.368 | 0.290 | 0.229 | 0.182 | 0.145 | 0.116 | 0.093 | 0.075 | 0.061 | 0.050 | 0.040 | 0.032 | 0.025 | 0.013 |
| 14 | 0.758 | 0.577 | 0.442 | 0.340 | 0.263 | 0.205 | 0.160 | 0.125 | 0.099 | 0.078 | 0.062 | 0.049 | 0.039 | 0.032 | 0.025 | 0.021 | 0.009 |
| 15 | 0.743 | 0.555 | 0.417 | 0.315 | 0.239 | 0.183 | 0.140 | 0.108 | 0.084 | 0.065 | 0.051 | 0.040 | 0.031 | 0.025 | 0.020 | 0.016 | 0.006 |
| 16 | 0.728 | 0.534 | 0.394 | 0.292 | 0.218 | 0.163 | 0.123 | 0.093 | 0.071 | 0.054 | 0.042 | 0.032 | 0.025 | 0.019 | 0.015 | 0.012 | 0.005 |
| 17 | 0.714 | 0.513 | 0.371 | 0.270 | 0.198 | 0.146 | 0.108 | 0.080 | 0.060 | 0.045 | 0.034 | 0.026 | 0.020 | 0.015 | 0.012 | 0.009 | 0.003 |
| 18 | 0.700 | 0.494 | 0.350 | 0.250 | 0.180 | 0.130 | 0.095 | 0.069 | 0.051 | 0.038 | 0.028 | 0.021 | 0.016 | 0.012 | 0.009 | 0.007 | 0.002 |
| 19 | 0.686 | 0.475 | 0.331 | 0.232 | 0.164 | 0.116 | 0.083 | 0.060 | 0.043 | 0.031 | 0.023 | 0.017 | 0.012 | 0.009 | 0.007 | 0.005 | 0.002 |
| 20 | 0.673 | 0.456 | 0.312 | 0.215 | 0.149 | 0.104 | 0.073 | 0.051 | 0.037 | 0.026 | 0.019 | 0.014 | 0.010 | 0.007 | 0.005 | 0.004 | 0.001 |
| 21 | 0.660 | 0.439 | 0.294 | 0.199 | 0.135 | 0.093 | 0.064 | 0.044 | 0.031 | 0.022 | 0.015 | 0.011 | 0.008 | 0.006 | 0.004 | 0.003 | 0.001 |
| 22 | 0.647 | 0.422 | 0.278 | 0.184 | 0.123 | 0.083 | 0.056 | 0.038 | 0.026 | 0.018 | 0.013 | 0.009 | 0.006 | 0.004 | 0.003 | 0.002 | 0.000 |
| 23 | 0.634 | 0.406 | 0.262 | 0.170 | 0.112 | 0.074 | 0.049 | 0.033 | 0.022 | 0.015 | 0.010 | 0.007 | 0.005 | 0.003 | 0.002 | 0.001 | 0.000 |
| 24 | 0.622 | 0.390 | 0.247 | 0.158 | 0.102 | 0.066 | 0.043 | 0.028 | 0.019 | 0.013 | 0.008 | 0.006 | 0.004 | 0.003 | 0.002 | 0.001 | 0.000 |
| 25 | 0.610 | 0.375 | 0.233 | 0.146 | 0.092 | 0.059 | 0.038 | 0.024 | 0.016 | 0.010 | 0.007 | 0.005 | 0.003 | 0.002 | 0.001 | 0.001 | 0.000 |
| 26 | 0.598 | 0.361 | 0.220 | 0.135 | 0.084 | 0.053 | 0.033 | 0.021 | 0.014 | 0.009 | 0.006 | 0.004 | 0.002 | 0.002 | 0.001 | 0.001 | 0.000 |
| 27 | 0.586 | 0.347 | 0.207 | 0.125 | 0.076 | 0.047 | 0.029 | 0.018 | 0.011 | 0.007 | 0.005 | 0.003 | 0.002 | 0.001 | 0.001 | 0.001 | 0.000 |
| 28 | 0.574 | 0.333 | 0.196 | 0.116 | 0.069 | 0.042 | 0.026 | 0.016 | 0.010 | 0.006 | 0.004 | 0.002 | 0.002 | 0.001 | 0.001 | 0.000 | 0.000 |
| 29 | 0.563 | 0.321 | 0.185 | 0.107 | 0.063 | 0.037 | 0.022 | 0.014 | 0.008 | 0.005 | 0.003 | 0.002 | 0.001 | 0.001 | 0.000 | 0.000 | 0.000 |
| 30 | 0.552 | 0.308 | 0.174 | 0.099 | 0.057 | 0.033 | 0.020 | 0.012 | 0.007 | 0.004 | 0.003 | 0.002 | 0.001 | 0.001 | 0.000 | 0.000 | 0.000 |

* $P_n = A/(1 + i)^n$

EXHIBIT 20B-2

Present Value of an Annuity of \$1 in Arrears*


| Periods | 2% | 4% | 6% | 8% | 10% | 12% | 14% | 16% | 18% | 20% | 22% | 24% | 26% | 28% | 30% | 32% | 40% |
|---------|--------|--------|--------|--------|-------|-------|-------|-------|-------|-------|-------|-------|-------|-------|-------|-------|-------|
| 1 | 0.980 | 0.962 | 0.943 | 0.926 | 0.909 | 0.893 | 0.877 | 0.862 | 0.847 | 0.833 | 0.820 | 0.806 | 0.794 | 0.781 | 0.769 | 0.758 | 0.714 |
| 2 | 1.942 | 1.866 | 1.833 | 1.783 | 1.736 | 1.690 | 1.647 | 1.605 | 1.566 | 1.528 | 1.492 | 1.457 | 1.424 | 1.392 | 1.361 | 1.331 | 1.224 |
| 3 | 2.884 | 2.775 | 2.673 | 2.577 | 2.487 | 2.402 | 2.322 | 2.246 | 2.174 | 2.106 | 2.042 | 1.981 | 1.923 | 1.868 | 1.816 | 1.766 | 1.589 |
| 4 | 3.808 | 3.630 | 3.465 | 3.312 | 3.170 | 3.037 | 2.914 | 2.798 | 2.690 | 2.589 | 2.494 | 2.404 | 2.320 | 2.241 | 2.166 | 2.096 | 1.849 |
| 5 | 4.713 | 4.452 | 4.212 | 3.993 | 3.791 | 3.605 | 3.433 | 3.274 | 3.127 | 2.991 | 2.864 | 2.745 | 2.635 | 2.532 | 2.436 | 2.345 | 2.035 |
| 6 | 5.601 | 5.242 | 4.917 | 4.623 | 4.355 | 4.111 | 3.889 | 3.685 | 3.498 | 3.326 | 3.167 | 3.020 | 2.885 | 2.759 | 2.643 | 2.534 | 2.168 |
| 7 | 6.472 | 6.002 | 5.582 | 5.206 | 4.868 | 4.564 | 4.288 | 4.039 | 3.812 | 3.605 | 3.416 | 3.242 | 3.083 | 2.937 | 2.802 | 2.677 | 2.263 |
| 8 | 7.325 | 6.733 | 6.210 | 5.747 | 5.335 | 4.968 | 4.639 | 4.344 | 4.078 | 3.837 | 3.619 | 3.421 | 3.241 | 3.076 | 2.925 | 2.786 | 2.331 |
| 9 | 8.162 | 7.435 | 6.802 | 6.247 | 5.759 | 5.328 | 4.946 | 4.607 | 4.303 | 4.031 | 3.786 | 3.566 | 3.366 | 3.184 | 3.019 | 2.868 | 2.379 |
| 10 | 8.983 | 8.111 | 7.360 | 6.710 | 6.145 | 5.650 | 5.216 | 4.833 | 4.494 | 4.192 | 3.923 | 3.682 | 3.465 | 3.269 | 3.092 | 2.930 | 2.414 |
| 11 | 9.787 | 8.760 | 7.887 | 7.139 | 6.495 | 5.938 | 5.453 | 5.029 | 4.656 | 4.327 | 4.035 | 3.776 | 3.543 | 3.335 | 3.147 | 2.978 | 2.438 |
| 12 | 10.575 | 9.385 | 8.384 | 7.536 | 6.814 | 6.194 | 5.660 | 5.197 | 4.793 | 4.439 | 4.127 | 3.851 | 3.606 | 3.387 | 3.190 | 3.013 | 2.456 |
| 13 | 11.348 | 9.986 | 8.853 | 7.904 | 7.103 | 6.424 | 5.842 | 5.342 | 4.910 | 4.533 | 4.203 | 3.912 | 3.656 | 3.427 | 3.223 | 3.040 | 2.469 |
| 14 | 12.106 | 10.563 | 9.295 | 8.244 | 7.367 | 6.628 | 6.002 | 5.468 | 5.008 | 4.611 | 4.265 | 3.962 | 3.695 | 3.459 | 3.249 | 3.061 | 2.478 |
| 15 | 12.849 | 11.118 | 9.712 | 8.559 | 7.606 | 6.811 | 6.142 | 5.575 | 5.092 | 4.675 | 4.315 | 4.001 | 3.726 | 3.483 | 3.268 | 3.076 | 2.484 |
| 16 | 13.578 | 11.652 | 10.106 | 8.851 | 7.824 | 6.974 | 6.265 | 5.668 | 5.162 | 4.730 | 4.357 | 4.033 | 3.751 | 3.503 | 3.283 | 3.088 | 2.489 |
| 17 | 14.292 | 12.166 | 10.477 | 9.122 | 8.022 | 7.120 | 6.373 | 5.749 | 5.222 | 4.775 | 4.391 | 4.059 | 3.771 | 3.518 | 3.295 | 3.097 | 2.492 |
| 18 | 14.992 | 12.659 | 10.828 | 9.372 | 8.201 | 7.250 | 6.467 | 5.818 | 5.273 | 4.812 | 4.419 | 4.080 | 3.786 | 3.529 | 3.304 | 3.104 | 2.494 |
| 19 | 15.678 | 13.134 | 11.158 | 9.604 | 8.365 | 7.366 | 6.550 | 5.877 | 5.316 | 4.843 | 4.442 | 4.097 | 3.799 | 3.539 | 3.311 | 3.109 | 2.496 |
| 20 | 16.351 | 13.590 | 11.470 | 9.818 | 8.514 | 7.469 | 6.623 | 5.929 | 5.353 | 4.870 | 4.460 | 4.110 | 3.808 | 3.546 | 3.316 | 3.113 | 2.497 |
| 21 | 17.011 | 14.029 | 11.764 | 10.017 | 8.649 | 7.562 | 6.687 | 5.973 | 5.384 | 4.891 | 4.476 | 4.121 | 3.816 | 3.551 | 3.320 | 3.116 | 2.498 |
| 22 | 17.658 | 14.451 | 12.042 | 10.201 | 8.772 | 7.645 | 6.743 | 6.011 | 5.410 | 4.909 | 4.488 | 4.130 | 3.822 | 3.556 | 3.323 | 3.118 | 2.498 |
| 23 | 18.292 | 14.857 | 12.303 | 10.371 | 8.883 | 7.718 | 6.792 | 6.044 | 5.432 | 4.925 | 4.499 | 4.137 | 3.827 | 3.559 | 3.325 | 3.120 | 2.499 |
| 24 | 18.914 | 15.247 | 12.550 | 10.529 | 8.985 | 7.784 | 6.835 | 6.073 | 5.451 | 4.937 | 4.507 | 4.143 | 3.831 | 3.562 | 3.327 | 3.121 | 2.499 |
| 25 | 19.523 | 15.622 | 12.783 | 10.675 | 9.077 | 7.843 | 6.873 | 6.097 | 5.467 | 4.948 | 4.514 | 4.147 | 3.834 | 3.564 | 3.329 | 3.122 | 2.499 |
| 26 | 20.121 | 15.983 | 13.003 | 10.810 | 9.161 | 7.896 | 6.906 | 6.118 | 5.480 | 4.956 | 4.520 | 4.151 | 3.837 | 3.566 | 3.330 | 3.123 | 2.500 |
| 27 | 20.707 | 16.330 | 13.211 | 10.935 | 9.237 | 7.943 | 6.935 | 6.136 | 5.492 | 4.964 | 4.524 | 4.154 | 3.839 | 3.567 | 3.331 | 3.123 | 2.500 |
| 28 | 21.281 | 16.663 | 13.406 | 11.051 | 9.307 | 7.984 | 6.961 | 6.152 | 5.502 | 4.970 | 4.528 | 4.157 | 3.840 | 3.568 | 3.331 | 3.124 | 2.500 |
| 29 | 21.844 | 16.984 | 13.591 | 11.158 | 9.370 | 8.022 | 6.983 | 6.166 | 5.510 | 4.975 | 4.531 | 4.159 | 3.841 | 3.569 | 3.332 | 3.124 | 2.500 |
| 30 | 22.396 | 17.292 | 13.765 | 11.258 | 9.427 | 8.055 | 7.003 | 6.177 | 5.517 | 4.979 | 4.534 | 4.160 | 3.842 | 3.569 | 3.332 | 3.124 | 2.500 |

* $P_t = (1+i)^t - 1 / (i + 0)$

المادة: نظرية محاسبية
المرحلة: الرابعة
التاريخ: / ٠٥ /
٢٠٢٤
الوقت : ساعتين



أسئلة امتحان السعي
الكورس الثاني
٢٠٢٣/٢٠٢٤
النموذج الاول



جامعة البصرة
كلية الإدارة والاقتصاد
قسم المحاسبة
أمتحان النهائي

ملاحظة الاجابة عن (٤) أربعة اسئلة على ان يكون السؤال الاول والثاني من ضمنها.

| الدرجة | عبارة السؤال | ت |
|--------|--|---------------------|
| ١ | يقصد بالموضوعية في المحاسبة: ا- ان تكون المعلومات المحاسبية هامة ومفيدة لطبيعة المشكله المراد حلها واتخاذ قرار بشأنها. ب- ان تكون المعلومات المحاسبية حديثة ج- ان يتم توفير المعلومات المحاسبية في وقت الحاجة د- الابتعاد عن التقدير والحكم الشخصي والاعتماد على مصادر حقيقية للمعلومات المحاسبية | ١ |
| ١ | اساس احتساب الاندثار مبني على : ا- فرض استمرارية المشروع ب- فرض الدورية ج- فرض الشخصية المعنوية د- مقابلة الإيرادات بالمصروفات هـ- ليس شيئاً مما سبق | ٢ |
| ١ | تتوجه لخدمة مديري الاموال في المنشآت غير الهادفة لتحقيق الربح وتطبيق المحاسبة الحكومية. أ- نظرية الاموال المخصصة ب- نظرية المشروع ج- نظرية الشخصية المعنوية د- نظرية الملكية | ٣ |
| ١ | تمهيد الدخل هو تسوية ضمن مستوى معين لغرض أ- فرض اتجاه او هدف معين ب- تحديد طريقة محاسبية ج- ضمان التقاعد د- حماية اصحاب العلاقة | ٤ |
| ١ | ما تشتره الشركة بغرض استخدامه في ممارسة نشاطها والاحتفاظ بها لفترة طويلة هي: ا- الموجودات الثابتة ب- البضاعة ج- الموجودات المتداولة د- لا شيء مما سبق | ٥ |
| ١ | عدم اخفاء معلومات عن قضايا قانونية ضد الشركة هو مثال على توفر صفة : أ- الحيادية ب- المقدره التنبؤية ج- المقدره التأكيدية د- القابلية على التحقق | ٦ |
| ١ | إذا كان إدراج بند ما أو حذفه سيؤثر على أو يغير من الحكم الشخصي للفرد فهو ذو أهمية نسبية. ا- العبارة صحيحة ب- العبارة خاطئة | ٧ |
| ١ | لا يمكن اعتبار المحاسبة علماً من العلوم النظرية المجردة التي لها قوانين ثابتة في الزمان والمكان كالفيزياء أو الكيمياء أو الرياضيات أو الاقتصاد السياسي ؟ ا- العبارة صحيحة ب- العبارة خاطئة | ٨ |
| ١ | ان مدخل الاحداث يرى الهدف من المحاسبة هو توفير معلومات بشأن الاحداث الاقتصادية الملائمة النافعة لمختلف نماذج القرارات. ا- العبارة صحيحة ب- العبارة خاطئة | ٩ |
| ١ | يعد الباحث Devin اول من أشار الى الاعتبارات السلوكية للمستخدم بشكل خاص، و الى الافتراضات السلوكية بشكل عام وذلك في عام ١٩٦٠. أذ يجادل الكاتب بقوله: علينا الان ان ننقل الى ردود الفعل السايكولوجية لأولئك الذين يستخدمون مخرجات النظام المحاسبي. ا- العبارة صحيحة ب- العبارة خاطئة | ١٠ |
| ٢,٥ | تمثل عناصر الموجودات والالتزامات وحقوق الملكية مبالغ الموارد والمطالبات على هذه الموارد: | ١١ |
| | | ت |
| | عن فترة زمنية معينة | في لحظة زمنية معينة |
| | لا | لا |
| | لا | نعم |
| | نعم | لا |
| | نعم | نعم |

السؤال الثاني: ضع علامة ✓ امام العبارة الصحيحة وعلامة x امام العبارة الخاطئة فيما يلي :
(١٢,٥ درجة)

| الدرجة | عبارة السؤال | ت |
|--------|--|----|
| ١ | يقتضي مفهوم العرض الصادق فصل أصول وخصوم المشروع عن أصول وخصوم ملاكهم وكذلك عن أصول وخصوم المشروعات الأخرى. | ١ |
| ١ | اعتاد المحاسبون على استخدام اقل القيم المحتملة فيما يتعلق بالأصول والإيرادات ، وعلى العكس من ذلك ، استخدام أكبر القيم فيما يتعلق بالخصوم والمصروفات ، تطبيقاً لمفهوم <u>التكلفة التاريخية</u> . | ٢ |
| ١ | وفقاً لمفهوم الوحدة المحاسبية تعتبر المنشأة مستمرة في أعمالها ما لم يظهر لها دليل <u>عكس ذلك</u> . | ٣ |
| ١ | يفترض المحاسب ثبات قيمة وحدة النقد على مدى عدد من السنوات. ✗ | ٤ |
| ١ | الاستهلاك يعتبر تطبيقاً لمحاسبة التكلفة التاريخية. | ٥ |
| ١ | طبقاً لمفهوم العرض الصادق يتم تقييد الأصول في السجلات على أساس ما تكبدته أو تكلفت المنشأة فعلاً في الحصول عليها. | ٦ |
| ١ | المطلوبات هي التزامات على المنشأة تجاه ملاكها وتتضمن رأسمال مضافاً إليه الأرباح غير الموزعة. | ٧ |
| ١ | خلو المعلومات من التحيز، والوصول إلي قرار واحد مع اختلاف الأشخاص القائمين بتقييم معلومات معينة باستخدام أدوات مختلفة هو تطبيق لمفهوم <u>العدالة</u> . | ٨ |
| ١ | الإيرادات هي الزيادة في حقوق الملكية نتيجة لصفقات عرضية أو طارئة لوحدة محاسبية معينة . وبالتالي فهي كل الأرباح التي تحققها المنشأة من العمليات العرضية أو الفرعية والتي لا تمثل النشاط الرئيسي للشركة. | ٩ |
| ١ | المصاريف تمثل الانخفاض في حقوق الملكية نتيجة لصفقات عرضية أو طارئة لوحدة محاسبية معينة ، وبالتالي هي التضحية بموارد اقتصادية لا يترتب عليه منافع حالية أو مستقبلية. | ١٠ |
| ٢,٥ | ينقسم التسلسل الهرمي للقيمة العادلة إلى ثلاثة مستويات واسعة، في المستوى الثاني المدخلات الملحوظة التي تعكس الأسعار المعروضة لـ الأصول (المالية) أو الخصوم (المالية) المتطابقة في الأسواق النشطة. وهو الأقل موضوعية لأنه يعتمد على الأسعار المعلنة ، مثل سعر إغلاق السهم في فاينانشيال تايمز. ✗ | ١١ |

السؤال الثالث: (١٢,٥ درجة)

يقال ان المحاسبة تعمل حالياً وفق النظام الثنائي او "السمة المختلطة" الذي يسمح باستخدام التكلفة التاريخية والقيمة العادلة، عند اعداد قوائمها المالية، وأن انفاضله بينهما لقياس أحد عناصر القوائم المالية، يجب ان يتم على أساس خاصيتي الملائمة و العرض الصادق. ناقش العبارة بالتفصيل معززا اجابتك بالامثلة للقياس والافصاح.

السؤال الرابع: أجب عن أحد الفرعين (١٢,٥ درجة)

عراق قرار القياس المعلومات

- ١) لقد تأثر تطور نظرية المحاسبية بالتغيرات التكنولوجية والتقدم المعرفي في العديد من فروع المعرفة اذكر ثلاث نظريات تم الاستفادة منها في تطوير محاولات بناء نظرية للمحاسبية ناقش بالتفصيل.
- ٢) أرسم شكل توضيحي للأطار المفاهيمي موضحة ما تتضمنه اجزائه و العلاقة بينها.

السؤال الخامس: أجب عن أحد الفرعين (١٢,٥ درجة)

- ١) يقال: تستند معظم الطرق و الأساليب المحاسبية على فرض الاستمرارية، ما المقصود بهذا الفرض اشرح بالتفصيل معززا اجابتك بالامثلة.
- ٢) لقد كان للثورة الصناعية تأثير كبير في تطور المحاسبة عدد و باختصار اهم التأثيرات.

العميد
أ.د. عبدالحسين توفيق شبلي

رئيس القسم
أ.م.د الهام جعفر الشاوي

مدرس المادة
م.د. ماجد احمد محمد

ملاحظة: الاجابة على اربعة اسئلة (كل سؤال ١٢,٥ درجة)

س ١ / في ٢٠٢٠/١/١ اشترت شركة البصرة ٦٠٪ من اسهم شركة العراق بمبلغ ١١٠٠٠٠٠ دينار نقداً، ونتج عن شراء شركة البصرة لاسهم شركة العراق اندماج شركة العراق في شركة البصرة وقد ظهرت الميزانيتين عند الاندماج كما يلي:

| البيان | شركة البصرة | شركة العراق |
|--------------------------------|-------------|-------------|
| النقدية | ٤٠٠٠٠ | ١٠٠٠٠ |
| بضاعة | ٩٠٠٠٠ | ٣٠٠٠٠ |
| مباني | ٢٥٠٠٠٠ | ٦٠٠٠٠ |
| استثمارات في شركة العراق | ١١٠٠٠٠ | |
| مجموع الاصول | ٤٩٠٠٠٠ | ١٠٠٠٠٠٠ |
| ذمم دائنة | ١٩٠٠٠٠ | ٣٠٠٠٠٠ |
| راس المال | ٢٥٠٠٠٠ | ٦٠٠٠٠٠ |
| ارباح محتجزة | ٥٠٠٠٠ | ١٠٠٠٠٠ |
| مجموع الالتزامات وحقوق الملكية | ٤٩٠٠٠٠ | ١٠٠٠٠٠٠ |

وقد توفرت المعلومات التالية:

١. القيمة العادلة للمباني لشركة العراق تبلغ ٨٠٠٠٠٠ دينار.
٢. تظهر الإفصاحات لدى شركة العراق وجود التزامات محتملة قيمتها ٤٠٠٠٠ دينار لم يتم الاعتراف لعدم انطباق شروط الاعتراف كون احتمالية حدوث التدفق الصادر غير مرجحة.
٣. اعترفت شركة البصرة بعلامة تجارية وهي مولدة داخليا من شركة العراق وغير معترف بها في سجلات شركة العراق ولكنها مؤهلة للاعتراف بها في القوائم المالية للشركة المشتري (شركة البصرة) والقيمة العادلة لها بتاريخ الاستملاك ٣٤٠٠٠٠ دينار.
٤. يتم قياس الحصة غير المسيطر عليها بالقيمة النسبية لها في القيمة العادلة لصافي اصول شركة العراق.

المطلوب:

- ١- اثبات القيود اللازمة في دفاتر شركة البصرة والخاصة بعملية اندماج شركة العراق.
- ٢- اعداد قائمة المركز المالي الافتتاحية لشركة البصرة بعد اتمام الاندماج.

س ٢ / بتاريخ ٢٠٢٠/١/١ اشترت شركة الهلال اداة دين- سندات- تستحق بعد ٣ سنوات بقيمة ٥٢٥٧٥ دينار شاملة تكاليف العملية (عمولة الوسيط المالي والضرائب). تبلغ القيمة الاسمية للسندات ٥٠٠٠٠٠ دينار وبفائدة ثابتة بنسبة ١٠٪ تقبض سنويا نهاية كل عام. ويبلغ سعر الفائدة السوقي عند شراء السندات ٨٪ وسيتم الاحتفاظ بالسندات لجمع التدفقات النقدية (القوائد) وقيمة السندات عند الاستحقاق.

المطلوب:

- ١- اثبات قيد شراء السندات
- ٢- اعداد جدول اطفاء خصم او علاوة السندات

س ٣/ في ١/١/٢٠٢٠ باعت شركة الفرح بضاعة الى العميل وسيم بمبلغ ٦٩٩٨٤ دينار مقابل استلام ورقة قبض تستحق بعد عامين وتبلغ تكلفة البضاعة المباعة ٤٥٠٠٠ دينار ومعدل الفائدة الضمني ٨٪ سنويا وسعر بيع البضاعة النقدي ٦٠٠٠٠ دينار.

المطلوب: بيان المعالجة المحاسبية لدى شركة الفرح بموجب معيار الابلاغ المالي الدولي ١٥.

س ٤/ توفرت لديك البيانات التالية حول المنتج (س) لدة شركة الاتحاد:
في ١/١٢/٢٠٢٠ باعت شركة الغد ٢٠٠٠ وحدة من السلعة (س) بسعر ٦٠ دينار للوحدة ل احد العملاء وقد كانت تكلفة الوحدة ٤٤ دينار. تسمح شركة الاتحاد للعميل باعادة اي منتج غير مستخدم خلال ثلاثة سهور من تاريخ البيع الحصول على رديات كاملة، ويتم الاستلام النقدي عند تحويل السيطرة على المنتج.
تقدر الشركة انه سيتم اعادة ٨٪ من عدد الوحدات المباعة.
المطلوب:

١- اعداد قيود عملية البيع ١/١٢/٢٠٢٠

٢- اعداد القيود اللازمة لاثبات مردودات المبيعات خلال فترة الارجاع بافتراض انه تم اعادة ١٦٠ وحدة.

٣- اعداد القيود اللازمة لاثبات مردودات المبيعات خلال فترة الارجاع بافتراض انه تم اعادة ١٨٠ وحدة.

٤- اعداد القيود اللازمة لاثبات مردودات المبيعات خلال فترة الارجاع بافتراض انه تم اعادة ١٥٠ وحدة.

س ٥/ اجب عن احد الفرعين :


أ- اشرح معيار الابلاغ المالي الدولي ٧ متطرقا الى القيمة العادلة والتحوط والافصاحات الكمية والافصاحات النوعية والمخاطر.

ب- اشرح المراحل الخمسة للاعتراف بالايراد وفق معيار الابلاغ المالي الدولي ١٥.

أ.م. د منذر جبار داغر
استاذ المادة

أ.د. عبدالحسين توفيق شبلي
العميد

أ.م. د الهام جعفر الشاوي
رئيس القسم



ملاحظة / الاجابة عن اربعة اسئلة على ان يكون السوالين الرابع والخامس من ضمنها .

- س ١ / أجب عما يلي استناداً لدليل التدقيق رقم (١) (مسؤولية مراقب الحسابات عن الاحداث اللاحقة)
 أ- هل يعتبر مراقب الحسابات مسؤولاً عن الاستقصاء بعد تاريخ المصادقة و اصدار البيانات المالية؟
 ب- اذا ما تبين لمراقب الحسابات حدوث حقائق هامة تؤثر على تلك البيانات ، ماهي الاجراءات التي سوف يتخذها ؟
 ج- هل يصدر تقريراً جديداً إذا ما اكتشف حقائق هامة تؤثر على البيانات المالية ؟
 د- ماهي الاجراءات التي سوف يتخذها اذا كان سوف يتم اصدار بيانات للسنة المالية التالية في وقت قريب؟
 (١٢) درجة

س ٢ / اجب عن كلا الفرعين :

- أ- ما هو تأثير رأي مراقب الحسابات لسنة سابقة على رأيه لسنة حاله؟ (٧ درجات)
 ب- تصنف ملفات التدقيق الى ملفات دائمية وملفات جارية، واحدى هذه الملفات هي (الحسابات الختامية)
 متى تعتبر هذه الملفات دائمية ومتى تعتبر ملفات جارية؟ وضح باختصار (٥ درجه)
 (١٢) درجة

س ٣ / اجب عن كلا الفرعين :

- أ- ماذا تعني الايضاحات والملاحظات والتحفظات التي ترد في تقرير مراقب الحسابات ، اشرحها مع الأمثلة لكل منها. (٧ درجه)
 ب- بعد انتهاء مراقب الحسابات من أعمال الفحص المبني لنظام الرقابة الداخلية يمكنه ان يستنتج ثلاث حالات، اشرحها بالتفصيل . (٥ درجات)

(١٢) درجة

(١٦) درجة

س ٤ / اجب بـ (صح) أو (خطأ) لكل مما يأتي :

- ١- ان شكل ومضمون اوراق العمل يتأثر بأمور عدة منها شكل تقرير مراقب الحسابات .
- ٢- يعتبر التوثيق المناسب مهماً لأنه يقدم الدليل على قيام المدقق بتنفيذ اجراءات التدقيق وفقاً لمعايير التدقيق.
- ٣- اشارات التدقيق تستخدم للتمييز بين انواع التقارير في المنشأة التي تم تدقيقها.
- ٤- تعتبر اوراق العمل التدقيقية من ممتلكات المنشأة وتستطيع في الحالات الضرورية اعطاء نسخه منها الى مراقب الحسابات على ان لا تكون بديلاً عن السجلات المالية .
- ٥- لا يجوز لمراقب الحسابات تزويد اوراق عمله لأي جهة كانت الا بموجب نص قانوني او حكم قضائي.
- ٦- يتضمن دليل رقم (٢) الاجراءات الواجب القيام بها من قبل مراقب الحسابات وما ينبغي الافصاح عنه من البيانات المالية عن الاحداث اللاحقة لتاريخ الميزانية العامة و اصدار البيانات .
- ٧- يعتبر مراقب الحسابات ملزم بالاستمرار بالاستقصاء بعد تاريخ المصادقة و اصدار البيانات المالية.
- ٨- من انواع التوثيق في التدقيق هي الوسائل الإلكترونية.
- ٩- مضمون اوراق العمل يعكس درجة كفاءة وخبرة ومعرفة مراقب الحسابات .
- ١٠- ملاحظات التدقيق التي تبقى معلقة دون ايضاح او اجابة يجب تحويلها الى اوراق عمل اخرى تسمى (تحفظات) .
- ١١- اعداد موازين المراجعة الدورية من وسائل الرقابة المحاسبية.

- ١٢- ان المخاطر الضمنية ومخاطر الضبط لها علاقة بطبيعة عمل المنشأة وبينتها بغض النظر عن طبيعة ومهام التدقيق.
- ١٣- حتى يتمكن مراقب الحسابات من فهم وإدراك مدى تأثير نظام الرقابة الداخلية على عملية التدقيق والرقابة يجب عليه أن يجرأ النظام إلى عدد من المكونات ثم يقوم بدراسة وتقويم كل منها بالتفصيل.
- ١٤- احدى طرق تقويم نظام الرقابة الداخلية هو الملخص التذكيري ويستخدم في المنشأة الكبيرة.
- ١٥- تعتبر الموازنات التقديرية لساعات العمل المطلوبة للتدقيق من الوسائل الفعالة في التخطيط.

| | |
|--|---|
| <p>٢- لا يعتبر مراقب الحسابات مسؤولاً عن القيام بأية إجراءات للتعرف على الأحداث بعد : أ- تأريخ تقريره ب- تأريخ الميزانية ج- تأريخ ١٢/٣١ من السنة موضوع التدقيق</p> | <p>١- لغرض تحقيق خطة التدقيق يجب على مراقب الحسابات : أ- تحديد مستوى الأهمية النسبية ومخاطر التدقيق ب- التعرف على صيغة التكاليف باعمال التدقيق ج- جميع ما ذكر اعلاه</p> |
| <p>٤- تشتمل فقرة نطاق التدقيق على : أ- تحديد اسم الجهة الخاضعة للرقابة والبيانات المالية التي جرى تدقيقها والفترة التي تغطيها . ب- إشارة إلى القوانين والتشريعات والقواعد والأعراف التي جرت عملية التدقيق طبقاً لمقتضياتها. ج- كل ما ذكر أعلاه .</p> | <p>٣- يوجه تقرير مراقب الحسابات إلى : أ- مدير الشركة أو مدير قسم الحسابات أو مدير التدقيق. ب- الهيئة العامة أو المساهمين أو الجهة التي قامت بتعيين مراقب الحسابات. ج- المصارف أو الضريبة أو مكتب مراقب الحسابات</p> |
| <p>٦- يقصد بالتحفظات : أ- تسليط الضوء على جوانب معينة في البيانات المالية يعتقد بضرورة وأهمية عرضها . ب- الاعتراضات أو الاحتجاجات أو حالات عدم الاتفاق ج- أمور تتعلق بالوقائع التي يكتشفها مراقب الحسابات</p> | <p>٥- بصفتك مراقب حسابات وكان الأثر المتوقع من تقييد نطاق العمل أو درجة عدم التأكد جسيماً وشاملاً وفرضت الإدارة قيوداً على نطاق عملية التدقيق فإن رأيك يجب أن يكون : أ- سلبي ب- مفيد ج- الامتناع عن إبداء رأي</p> |
| <p>٨- عندما يعطي مراقب الحسابات رأياً متحفظاً أو عندما يمتنع عن إبداء الرأي يجب أن يتضمن التقرير : أ- كتاب تعيين مراقب الحسابات لمهمة التدقيق ب- الأسباب التي دعت إلى ذلك بشكل واضح ومفهوم ج- مبلغ اجور التدقيق المتفق عليها مع الادارة</p> | <p>٧- يندرج معيار بذل العناية المهنية اللازمة في تنفيذ عمل مراقب الحسابات ضمن : أ- المعايير الأخلاقية ب- معايير العمل الميداني ج- معايير اعداد التقرير</p> |
| <p>١٠- واحد مما يأتي لا يعتبر من معايير العمل الميداني : أ- التخطيط لعملية التدقيق . ب- الاشراف على المساعدين . ج- الالتزام بأداب وسلوك المهنة .</p> | <p>٩- يشمل نظام الضبط الداخلي: أ- مجموعة من النظم والأساليب التي تساعد في فحص وتقويم جميع نواحي النشاط ب- الخطة التنظيمية والوسائل والإجراءات التي تتعلق بصفة أساسية في المحافظة على موجودات المنشأة ج- مجموعة الإجراءات والوسائل التنظيمية والمحاسبية التي تهدف إلى ضبط عمليات المنشأة</p> |


نتمنى لكم النجاح والتوفيق



العميد
أ. د عبدالحسين توفيق شبلي



رئيس القسم
أ.م.د. الهام جعفر الشاوي



استاذ المادة
م.د. عدي جواد علي



استاذ المادة
م.م حنان صالح مهدي



Q 1 - True or False (10 marks marks):

- 1-When the actual sales are more than the budgeted sales, the sales variance is favorable.
- 2-A trigger point is a process in the cycle, from purchase of direct materials to sale of finished goods.
- 3- In both single product and multiple products sales, the same sales variances are computed.
- 4-Budgeted average CM per unit = Budgeted CM per units × Budgeted sales mix.
- 5- In Just in Time system, some indirect costs have been changed to direct costs.
- 6-Quality is defined as the total features and characteristics of a product made according to specifications to dissatisfy customers as the time of purchase and during use.
- 7-In a JIT system, suppliers are selected on basis of their ability to provide materials at the lowest price.
- 8-ABC focus on the three elements of costs.
- 9-The four categories of quality is relate.
- 10-In ABC, the products consume the resources.

Q 2// -Multiple choice questions (30 marks):

-: The activities, indirect costs, activity drivers, and products are as follows:

| Activity | Indirect costs | Activity driver | Quantity of activity driver | |
|---------------------------|----------------|------------------|-----------------------------|-----------|
| | | | Product A | Product B |
| Designing | ID 800,000 | designer -hours | 600 | 400 |
| Inspection | ID 450,000 | Inspection hours | 100 | 50 |
| Direct materials per unit | | | ID 1,000 | ID 800 |
| Direct labor per unit | | | ID 780 | ID 635 |

The units produced of product A are 1500 units, and product B 2000 units.

1 – Designing rate is:

- A – ID 850 per hours B – ID 800 per hour C – ID 900 per hour D – ID 750 per hour

2 – Indirect cost allocated per unit of product A:

- A – ID 235 B – ID 520 C – ID 250 D – ID 325

El-dyar Company incurred the following costs of quality for July 2021: line inspection ID 20,000; scrap ID 25,000; product testing 5,000; warranty ID 10,000; rework ID 10,000; claims ID 15,000; training program ID 20,000; supplier evaluation ID 10,000.

3 - Prevention costs are

- A – ID 20,000 B – ID 30,000 C – ID 10,000 D – ID 35,000

4- Appraisal costs are:

- A – ID Zero B – ID 20,000 C – ID 25,000 D – ID 5,000

5 - Internal failure costs are:

- A – ID 10,000 B – ID 25,000 C – ID 35,000 D – ID 43,000

6- External failure costs are:

- A – ID 30,000 B – ID 10,000 C – ID 25,000 D – ID 15,000

Al-Basrah Company produces hand watches. The budgeted and actual data for March 2015 follows:

| | Actual results | Static budget |
|----------------|----------------|---------------|
| Units sold | 230,550 units | 220,000 units |
| Sales revenues | ID 3,400,000 | ID 3,300,000 |
| Variable costs | 2,312,000 | 2,112,000 |
| Market share | 53 % | 50 % |

~~7 The market share variance~~

A - ID 70,470 (F) B - ID 70,740 (U) C - ID 70,740 (F) D - ID 70,470 (U)

8 - The market size variance is:

A - ID 13,500 (U) B - ID 11,500 (U) C - ID 11,500 (F) D - ID 13,500 (F)

9 - Flexible budget is based on:

A - Actual units sold B - Planned units sold
 C - Estimated units sold D - Budgeted units sold

10- Which of the following is not a batch-level activity?

A - Engineering changes B - Equipment setups
 C - Inspection D - Materials handling

Answer Three question from the four following questions(10 marks for each)

Q 3// Bentlet Corporation is a diversified manufacturer of sporting goods the company's activity-based costing system contains the following six activity cost pools and activity rates at the right:

Cost and activity data have been supplied for the Tennis racquet and Squash racquet product lines:

| Costs and units | Tennis | Squash |
|-----------------------------------|---------|---------|
| Direct materials cost per unit | \$11.00 | \$28.00 |
| Direct labor cost per unit | \$15.50 | \$7.80 |
| Number of units produced per year | \$6,500 | |

| Activity cost pool | Activity Rates |
|--------------------|---------------------------------|
| Labor -related | \$4.80 per direct labor-hours |
| Machin-related | \$17.00 Machin per machine-hour |
| Machine set up | \$180.00 per set up |
| Production orders | \$55.00per order |
| Shipments | \$62.00per shipment |
| General factory | \$9.00 per direct labor-hours |

| Activity | Tennis | Aquash |
|--------------------|--------|--------|
| Direct-labor hours | 8,400 | 1,050 |
| Machine-hours | 13,000 | 3,500 |
| Machine setups | 7 | 4 |
| Production orders | 7 | 4 |
| Shipments | 14 | 4 |

Required:: Compute the unit product cost of each product listed above.

Q 4// Brabham enterprises manufactures tires for formula 1 motor racing circuit. For August 2023 it budgeted to manufacture and sell 3,000 tires at a variable cost of \$74 per tire and total fixed cost of \$54,000 the budgeted selling price was \$110 per tire. Actual results in August 2023 were 2,800 tires manufactured and sold at a selling price of \$112 per tire. The actual total variable costs were \$229,600 and the actual total fixed costs were \$50,000

Required: Prepare a performance report including the actual results, the flexible budget, the static budget a well as the sales/volume variance, the flexible budget variance and the static budget variance.

Q 5// Dazzle lighting Corporation manufactures a wide range of lighting fixtures for the following housing industry the company recently adopted backflush costing the following events occurred in June

- a- Raw materials costing \$750,000 purchased on credit.
- b- Direct labor costs of \$300,000 and the manufacturing overhead costs \$380,000 were incurred. These amounts have not been paid.
- c- Conversion costs of \$700,000 were applied to products these goods included raw materials costing \$380,000
- d- Goods costing \$950,000 were sold for \$1,300,000 on credit.
- e- Over applied or under applied conversion costs were closed to cost of goods sold

Required: 1- prepare the journal enteris using 3 triggers point

2- post to ledger accounts

3- Prepare journal entries using transactional system

Q 6// The Black Company manufactures custom-designed milling machines and incurred the following costs of quality for 2021 and 2022:


| | 2021 | 2022 |
|---------------------|------------|-----------|
| Rework | \$ 200,000 | \$250,000 |
| Design engineering | 40,000 | 50,000 |
| Process engineering | 300,000 | 270,000 |
| inspection | 80,000 | 60,000 |
| Scrap | 50,000 | 90,000 |
| Defective product | 90,000 | 85,000 |
| Liability claim | 360,000 | 500,000 |
| Customer service | 230,000 | 350,000 |

The total sales in each of two years were \$6,000,000 the firm's cost of goods sold is typically one third of net sales.


Required:


- 1- Prepare a cost of quality report that classifies the firm's cost under the proper cost of Quality category.
- 2- Calculate the ratio of each cost of quality category to sales in each of the two years
- 3- Analyze the cost quality report between 2021 and 2022.

Good luck


P.D. AbdulHuseen .T. Shable

Dean


A.P.D. Elham J. Hmeed
Head of Department


A.p. Fayhaa.A. Mahmmod
Lecturer

المادة: نظم المعلومات المحاسبية المرحلة: الرابعة التاريخ: 2024/5/26 الزمن: ساعتين فقط

ملاحظة: الإجابة عن ثلاثة أسئلة فقط على ان يكون السؤال الأول من ضمنها وبخط واضح ومرتب جداً

س1/ أجب عما يأتي: (20 درجة)

أ. وضح بالرسم واحد مما يأتي :-

1. مخطط تدفق البيانات (DFD) لنظام المشتريات.

2. مخطط تدفق البيانات (DFD) لنظام المدفوعات النقدية .

ب. املأ الفراغات التالية:

1. ان عملية فصل الوظائف لإتمام دورة المبيعات تسمى _____، وان منع الوصول غير الشرعي لموجودات الوحدة الاقتصادية يعرف بـ _____.

2. هناك ثلاث علاقات عديدة يمكن تخصيصها بين الوحدات ضمن المخطط العائلي للوحدات هي _____ و _____ و _____.

3. _____ هو عرض تخطيطي لنظام المعلومات المحاسبية يوضح مكونات النظام وتدفق البيانات ضمن هذه المكونات التي تقسم الى _____ و _____ و _____ و _____.

س2/ اختر الاجابه الصحيحة لعشره مما يأتي : (15 درجة)

1- في DFD يمثل حرف Z :

أ- اتجاه سير ب- نهاية طريقه ج- حلقة وصل د- تحويل البيانات من مكان لآخر ه- ملاحظات اضافية

2- مخرجات النظام المحاسبي AIS تكون على شكل :

أ- تقارير ب- جداول ج- اشكال البيانية د- قوائم ه- كل ماسبق

3- يمثل مقارنة منطقية بين متغيرين او اكثر ويحدد خطواته بناء على ذلك:

أ- رمز المعالجة ب- رمز القرار ج- رمز الادخال د- رمز الاخراج ه- تعديلات على الاوامر

4- عقد الايجار يعتبر:

أ- مستند صرف ب- مستند قبض ج- مستند قيد د- مستند ثبوتي ه- كل ما سبق

5- تخزين البيانات على شريط مغناطيسي يمثل بالرمز:

أ- ▽ ب-  ج-  د-  ه- 

6- الحقائق التي يتم ادخالها وتخزينها ومعالجتها بواسطة نظم المعلومات تسمى:

أ- بيانات ب- معلومات ج- معرفة د- تطبيقات ه- كل ما سبق

7- المواد الخام التي تصدر للانتاج واثبتت الكلفة المعيارية لها تعتبر :

أ- احدث متبادلة ب- احدث داخلية ج- احدث بيئية د- احدث مستقبلية ه- لا شئ مما ذكر

8- الموظف المسؤول عن تكوين ملف معاملات التحصيل النقد على اساس الحوالات المالية لكل مدين :

أ- امين الصندوق ب- كاتب المدينون ج- المحاسب د- كاتب قسم تحصيل النقدية ه- لاشيء مما ذكر

9- القسم الذي يحضر مستند امر البيع :

أ- قسم الفواتير ب- قسم الائتمان ج- قسم المبيعات د- قسم الشحن ه- غير ذلك

10- مستند يمثل انطلاق عملية التصنيع بالاقسام الانتاجية :

أ- بطاقة الحركة ب- بطاقة الوقت ج- قائمة طريق المنتج د- امر العمل ه- مستند تنبؤ المبيعات

11- احد الاقسام التالية يستلم نسخة من امر العمل لتحديث سجلات ملف المنتجات النهائية:

أ- قسم التكاليف ب- قسم مراقبة المخزون ج- قسم المبيعات د- قسم الانتاج ه- كل ما سبق

12- القسم الذي يوقع الشيك الخاص بالاجور وايداعه لدى المصرف :

أ- قسم المدفوعات النقدية ب- قسم الحسابات الدائنة ج- قسم التكاليف د- قسم الاجور ه- قسم الافراد

س3/ اجب بكلمة صح او خطأ مع تصحيح الخطأ ان وجد. (15 درجة)

1. DML هي اللغة التي يتم من خلالها وصف المفاهيم المادية للبيانات وكذلك التركيب المنطقي لقاعدة البيانات الى نظام إدارة قاعدة البيانات (DBMS).
2. احدى طرق معالجة البيانات هي طريقة المعالجة بالوقت الحقيقي، إذ يتم بموجب هذه الطريقة تنظيم الملف الرئيسي بطريقة الوصول التتابعي المفهرس أو طريقة الوصول المباشر.
3. يمثل الترميز (Coding) أكثر الأنواع شيوعاً لتطوير وتوثيق نظم المعلومات الحاسوبية.
4. احدى وظائف نظام المعلومات الحاسوبية هي محافظة (صيانة) البيانات، إذ يتم انجاز هذه الوظيفة خلال مرحلة المدخلات.
5. أحد أنواع ملفات تخزين البيانات في النظام الحاسوبي هو ملف العمليات ويشبه هذا الملف سجل الأستاذ في النظام اليدوي.
6. تصور مخططات سير النظام الحاسوبي حركة البيانات المعالجة في النظام الحاسوبي مستخدمة ثلاث مكونات هي المدخلات والمعالجة والمخرجات.
7. في النظام اليدوي للمشتريات يتم اعداد نسخة غامقة من أمر الشراء وارسالها الى قسم الاستلام لغرض إخفاء أي معلومات تتعلق بسعر وكمية المواد المشتراة.
8. ان الوصول غير المباشر للموجودات كإجراء رقابي يعني الوصول الى مستندات وسجلات هذه الموجودات والرقابة عليها.


في نظام تحصيل النقد لدورة الإيرادات يمثل الزبون مقصد البيانات.


10. ان الغرض من اعداد قائمة طريق المنتج هو تسجيل العمل المنفذ في كل مركز عمل، إذ تمثل تحويل بحركة وانتقال الشغل من مركز عمل لآخر.


س4/ اجب عن كلا الفرعين : (15 درجة)


- أ- وضح بالرسم مدخل الملفات مقابل مدخل قاعدة البيانات (DBA) . (5 درجات)
- ب- وضح مفهوم خمس مما يأتي بشكل مختصر . (10 درجات)
 1. الملائمة كخاصية مفيدة للمعلومات.
 2. التغذية الراجعة (Feedback).
 3. المستندات الثبوتية.
 4. المعالجة بدفعة (Batch Processing).
 5. الاشراف كإجراء رقابي في دورة النفقات
 6. قاموس البيانات.


مع تمنياتنا لكم بالنجاح


م.م سمير اسماعيل


أ.م كفاح الشكر


أ.م جمانة حنظل


أ.د. عبد الحسين توفيق الشبلي


أ.م.د. الهام جعفر الشاوي